

RBI Assistant Mains 2020 All India Mock Test

Directions (1-5): निम्नलिखित जानकारी का ध्यानपूर्वक अध्ययन कीजिए और नीचे दिए प्रश्नों के उत्तर दीजिए।

सात व्यक्ति A, E, S, O, D, B और C एक सीधी रेखा में उत्तर की ओर उन्मुख होकर खड़े हैं (लेकिन जरूरी नहीं समान क्रम में हो।) जिस समय वह सीधी रेखा में खड़े होते हैं सभी व्यक्तियों में से प्रत्येक और उसके निकटतम पड़ोसी के बीच में दूरी समान है। D दायें अंत से तीसरे स्थान पर खड़ा है। E, C के दायें से तीसरे स्थान पर खड़ा है, जो S या A का निकटतम पड़ोसी नहीं है। D, O और E का निकटतम पड़ोसी है, जो S के ठीक बायें खड़ा है। कुछ समय बाद, उनमें से दो अपने आरंभिक स्थान से चलना शुरू करते हैं। S उत्तर की ओर आठ मीटर चलना शुरू करता है और बिंदु L पर पहुँच जाता है। O और बिंदु L के बीच की न्यूनतम दूरी दस मीटर है। O, बिंदु R और L के साथ पंक्ति में है। B उत्तर की ओर निश्चित दूरी चलने के बाद बिंदु Q पर पहुँच जाता है। बिंदु Q से, B दक्षिणावर्त दिशा में वृताकार पथ पर चलता रहता है जब तक वह बिंदु R पर पहुँचता है। बिंदु R, B के आरंभिक स्थान के दक्षिण की ओर है। बिंदु R और L के बीच में न्यूनतम दूरी पंद्रह मीटर है।

Q1. बिंदु D और C के बीच में न्यूनतम दूरी कितनी है?

- (a) 4 मीटर
- (b) 2 मीटर
- (c) 3 मीटर
- (d) 6 मीटर
- (e) इनमें से कोई नहीं

Q2. निम्नलिखित में से व्यक्तियों का कौन सा समूह 0 से 6 मीटर की दूरी पर खड़ा था जब सभी सात व्यक्ति सीधी पंक्ति में खड़े थे?


- (a) C और D
- (b) B और E
- (c) A और S
- (d) निर्धारित नहीं किया जा सकता
- (e) इनमें से कोई नहीं

Q3. निम्नलिखित में से कौन A के दायें ओर नहीं खड़ा है?

- (a) C
- (b) O
- (c) D
- (d) E
- (e) इनमें से कोई नहीं

Q4. जब B, बिंदु Q और बिंदु R दोनों से समान दूरी पर हो, तो C और B(C के दायें ओर) के बीच की सबसे न्यूनतम दूरी कितनी है?

- (a) 2 मीटर
- (b) 1 मीटर
- (c) 4 मीटर
- (d) निर्धारित नहीं किया जा सकता
- (e) इनमें से कोई नहीं



12 Months Subscription



BANK

Useful for Bank & Insurance Exams

TEST PACK

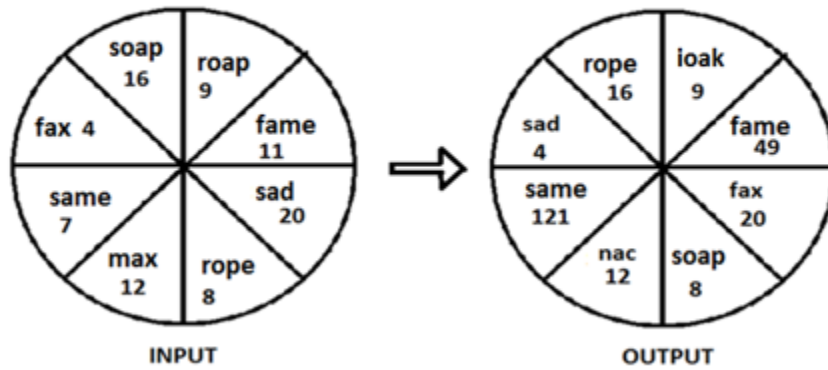
Q5. O के आरंभिक बिंदु और बिंदु Q के बीच न्यूनतम दूरी कितनी है?

- (a) 4मी
- (b) 3 मी
- (c) 5 मी
- (d) निर्धारित नहीं किया जा सकता
- (e) उपरोक्त में से कोई नहीं

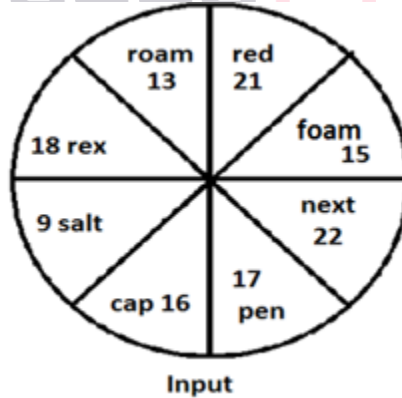
Directions (6-9): निम्नलिखित जानकारी का ध्यानपूर्वक अध्ययन कीजिए और नीचे दिए प्रश्नों के उत्तर दीजिए।

विभिन्न संख्याओं और शब्दों से बना एक इनपुट वृत्त नीचे दिया गया है। वृत्त में आठ वृत्त-खंड हैं। प्रत्येक वृत्त-खंड पर अलग-अलग कुछ संक्रियाएं /तर्क लागू होते हैं तथा अंत में एक नया आउटपुट वृत्त प्राप्त होता है।

उदाहरण :



उपर्युक्त उदाहरण में समान संक्रिया /तर्क का प्रयोग करते हुए, नीचे दिए गए इनपुट वृत्त का आउटपुट वृत्त ज्ञात कीजिए तथा उस पर आधारित प्रश्नों के उत्तर दीजिए।



Q6. निम्नलिखित संख्या और शब्द के समूह में से कौन आउटपुट में वृत्त-खंड '18 next' के ठीक विपरीत है?

- (a) foam 81
- (b) rex 18
- (c) rex 22
- (d) foam 22
- (e) इनमें से कोई नहीं

Q7. निम्नलिखित शब्द और संख्या के समूह में से कौन-सा आउटपुट में 'iew 21' के ठीक विपरीत है?

- (a) xak 225
- (b) pen 17
- (c) next 18
- (d) salt 225
- (e) इनमें से कोई नहीं

Q8. उपर्युक्त दिए गए इनपुट के आउटपुट की सभी विषम संख्याओं का कुल योग कितना है?

- (a) 784
- (b) 785
- (c) 786
- (d) 780
- (e) इनमें से कोई नहीं

Q9. आउटपुट में cap 16 से कौन सा शब्द और संख्या प्रतिस्थापित होती है?

- (a) xap 16
- (b) wap 16
- (c) wak 16
- (d) xak 16
- (e) इनमें से कोई नहीं

Directions (10-14): निम्नलिखित जानकारी का ध्यानपूर्वक अध्ययन कीजिए और नीचे दिए प्रश्नों के उत्तर दीजिए।

12 व्यक्ति A, B, C, D, E, F, G, H, I, J, K और L एक इमारत में रहते हैं, जिसमें 9 तल हैं। भू-तल की संख्या 1 है तथा शीर्ष तल की संख्या 9 है। एक तल पर दो से अधिक व्यक्ति नहीं रहते हैं। 12 व्यक्तियों में से पांच महिलाएं हैं तथा शेष पुरुष हैं। वे सभी अर्थशास्त्र, अंग्रेजी, हिंदी और गणित जैसे विभिन्न विषय पसंद करते हैं, तीन से अधिक व्यक्ति समान विषय पसंद नहीं करते हैं, प्रत्येक विषय को कम-से-कम एक महिला पसंद करती है।

जिस महिला को अंग्रेजी पसंद है, वह तल संख्या-6 पर J के साथ रहती है। जिस पुरुष व्यक्ति को अर्थशास्त्र पसंद है और जिस व्यक्ति को गणित पसंद है, उनके बीच दो व्यक्ति रहते हैं तथा जिस व्यक्ति को अर्थशास्त्र पसंद है वह गणित पसंद करने वाले व्यक्ति से नीचे रहता है। दो विषम संख्या वाले तल खाली हैं। या तो शीर्ष तल या सबसे नीचे का तल खाली है। A जिसे अंग्रेजी पसंद है वह K से ऊपर रहता है, जो एक महिला है तथा गणित पसंद करती है। अंग्रेजी पसंद करने वाले व्यक्ति और K के बीच छह तल हैं। E और L के बीच पांच तल हैं तथा E, L के ऊपर एक तल पर रहता है, जो एक महिला है और अर्थशास्त्र पसंद करती है। E तल संख्या-8 पर नहीं रहता है। L अकेला रहता है। G उस व्यक्ति के साथ तल साझा करता है जिसे हिंदी पसंद है। दो तल हैं जिन पर केवल एक पुरुष और केवल एक महिला रहती है, जो उन दो तलों के बीच में हैं जिनमें से प्रत्येक पर दो व्यक्ति रहते हैं। दो व्यक्ति जिन्हें अंग्रेजी पसंद है, वे समान तल पर रहते हैं। कोई दो महिलाएं समान तल साझा नहीं करती हैं। H उस तल के ठीक नीचे रहता है, जिस पर J रहता है, जिसे हिंदी पसंद है। G को गणित पसंद है। हिंदी पसंद करने वाले व्यक्ति और खाली तल के बीच दो व्यक्ति रहते हैं तथा जिस व्यक्ति को हिंदी पसंद है, वह खाली तल से नीचे रहता है। C एक महिला है, जिसे अर्थशास्त्र पसंद है और वह अपना तल I के साथ साझा करती है, जिसे गणित पसंद है। F एक पुरुष है, जो खाली तल के ठीक ऊपर रहता है तथा उसे हिंदी विषय पसंद है।

Q10. निम्नलिखित में से कौन तल संख्या-5 पर रहता है?

- (a) B
- (b) D
- (c) C
- (d) H
- (e) G

Q11. निम्नलिखित दिए गए विकल्पों में G के लिए विषय-लिंग-तल संख्या का सही संयोजन ज्ञात कीजिए।

- (a) गणित - महिला -4
- (b) हिंदी - महिला -4
- (c) गणित -पुरुष -4
- (d) निर्धारित नहीं किया जा सकता
- (e) इनमें से कोई नहीं

Q12. खाली तल के ठीक ऊपर कौन रहता है?

- (a) K
- (b) B
- (c) D
- (d) I
- (e) (a) और (d) दोनों



Q13. निम्नलिखित में से कौन उस तल के ठीक नीचे रहता है जिस पर D रहता है?

- (a) H
- (b) C
- (c) F
- (d) L
- (e) निर्धारित नहीं किया जा सकता

Q14. निम्नलिखित में से कौन शीर्ष तल पर रहता है?

- (a) A
- (b) B
- (c) D
- (d) I
- (e) F

TEST SERIES

Bilingual

Video Solutions

RBI ASSISTANT

MAINS

25 Total Tests | eBooks

Directions (15-17): नीचे दिए गए प्रश्नों में से प्रत्येक में एक प्रश्न और उसके नीचे दो कथन दिए हैं जिनका क्रमांक I और II है। आपको यह निर्धारित करना है कि कथन में दी गई जानकारी प्रश्न का उत्तर देने के लिए पर्याप्त है या नहीं। दोनों कथनों को पढ़िए और उसके अनुसार उत्तर दीजिये:

Q15. मि. X सोमवार से आरम्भ करते हुए शुक्रवार तक एक सप्ताह के विभिन्न दिनों में विभिन्न खाद्य पदार्थ बनाता है, तो वह बृहस्पतिवार के दिन निम्नलिखित में से कौन सा खाद्य पदार्थ बनाता है?

I. डोसा और पास्ता, जो बुधवार के दिन बनाया जाता है, के बीच केवल एक खाद्य-पदार्थ बनता है। चिकन, बिरयानी से पहले बनाया जाता है।

II. डोसा, बिरयानी के बाद किसी दिन बनाया जाता है। बिरयानी और चिकन के बीच दो खाद्य-पदार्थ बनाए जाते हैं। ढोकला, बिरयानी से पहले बनाया जाता है।

(a) यदि कथन I में दी गई जानकारी अकेले प्रश्न का उत्तर देने के लिए पर्याप्त है, जबकि कथन II में दी गई जानकारी अकेले प्रश्न का उत्तर देने के लिए पर्याप्त नहीं है।

(b) यदि कथन II में दी गई जानकारी अकेले प्रश्न का उत्तर देने के लिए पर्याप्त है, जबकि कथन I में दी गई जानकारी अकेले प्रश्न का उत्तर देने के लिए पर्याप्त नहीं है।

(c) यदि या तो कथन I में दी गई जानकारी अकेले या कथन II में दी गई जानकारी अकेले प्रश्न का उत्तर देने के लिए पर्याप्त है।

(d) यदि कथन I और II दोनों में दी गई जानकारी मिलाकर भी प्रश्न का उत्तर देने के लिए पर्याप्त नहीं है।

(e) यदि कथन I और कथन II दोनों में दी गई जानकारी मिलाकर प्रश्न का उत्तर देने के लिए आवश्यक है।

Q16. जुगल के सन्दर्भ में रोमिल की स्थिति क्या है?

I. 40 विद्यार्थियों की एक कक्षा में, रोमिल की बाएँ से 27वीं रैंक है तथा जुगल की दाएँ से 21वीं रैंक है।

II. 45 विद्यार्थियों की एक कक्षा में रानी, रोमिल के ठीक बायीं ओर है। रानी की रैंक बाएँ छोर से 27वीं है। जुगल की रैंक दाएँ से 22वीं है।

(a) यदि कथन I में दी गई जानकारी अकेले प्रश्न का उत्तर देने के लिए पर्याप्त है, जबकि कथन II में दी गई जानकारी अकेले प्रश्न का उत्तर देने के लिए पर्याप्त नहीं है।

(b) यदि कथन II में दी गई जानकारी अकेले प्रश्न का उत्तर देने के लिए पर्याप्त है, जबकि कथन I में दी गई जानकारी अकेले प्रश्न का उत्तर देने के लिए पर्याप्त नहीं है।

(c) यदि या तो कथन I में दी गई जानकारी अकेले या कथन II में दी गई जानकारी अकेले प्रश्न का उत्तर देने के लिए पर्याप्त है।

(d) यदि कथन I और II दोनों में दी गई जानकारी मिलाकर भी प्रश्न का उत्तर देने के लिए पर्याप्त नहीं है।

(e) यदि कथन I और कथन II दोनों में दी गई जानकारी मिलाकर प्रश्न का उत्तर देने के लिए आवश्यक है।

Q17. G का K से क्या संबंध है?

I. A, K का भाई है, जो N से विवाहित है, जो H की माँ है, जो M से विवाहित है। M, G का पिता है।

II. G, R का भाई है। K, N की बहन है। A, K से विवाहित है। J, A का इकलौता बच्चा है तथा वह G से विवाहित है।

(a) यदि कथन I में दी गई जानकारी अकेले प्रश्न का उत्तर देने के लिए पर्याप्त है, जबकि कथन II में दी गई जानकारी अकेले प्रश्न का उत्तर देने के लिए पर्याप्त नहीं है।

(b) यदि कथन II में दी गई जानकारी अकेले प्रश्न का उत्तर देने के लिए पर्याप्त है, जबकि कथन I में दी गई जानकारी अकेले प्रश्न का उत्तर देने के लिए पर्याप्त नहीं है।

(c) यदि या तो कथन I में दी गई जानकारी अकेले या कथन II में दी गई जानकारी अकेले प्रश्न का उत्तर देने के लिए पर्याप्त है।

(d) यदि कथन I और II दोनों में दी गई जानकारी मिलाकर भी प्रश्न का उत्तर देने के लिए पर्याप्त नहीं है।

(e) यदि कथन I और कथन II दोनों में दी गई जानकारी मिलाकर प्रश्न का उत्तर देने के लिए आवश्यक है।

Directions (18-20): दी गई सूचना का ध्यानपूर्वक अध्ययन कीजिये और प्रश्नों के उत्तर दीजिये:

एक निश्चित कूटभाषा में,

'expert to manage exams' को 'es fr re pt' के रूप में लिखा जाता है,

'manage gathering in evening' को 'ch ba mo fr' के रूप में लिखा जाता है,

'gathering to nominate persons' को 're dv ch gi' के रूप में लिखा जाता है और

'nominate chairman to manage' को 're gi fr yu' के रूप में लिखा जाता है।

Q18. दी गई कूटभाषा में 'evening' के लिए क्या कूट है?

(a) mo

(b) yu

(c) ch

(d) या तो (A) या (E)

(e) ba

Q19. दी गई कूटभाषा में, कूट 'pt' का प्रयोग किसके लिए किया गया है?

(a) nominate

(b) या तो 'exams' या 'expert'

(c) evening

(d) manage

(e) या तो 'for' या 'persons'

Q20. दी गई कूटभाषा में 'manage call' के लिए क्या कूट है?

(a) dv iq

(b) iq gi

(c) iq fr

(d) gi es

(e) fr dv

Directions (21-23): निम्नलिखित सूचना का ध्यानपूर्वक अध्ययन कर नीचे दिए गए प्रश्नों के उत्तर दीजिये:

सात बॉक्स जिनका भार अलग-अलग हैं, एक-के-ऊपर-एक करके रखे गए हैं। बॉक्स A उस बॉक्स के ठीक ऊपर रखा है जिसका भार 48 किग्रा है। E और 48 किग्रा भार वाले बॉक्स के मध्य तीन बॉक्स रखे हैं। बॉक्स E का भार 72 किग्रा है। बॉक्स R का भार 48 किग्रा नहीं है। बॉक्स G का भार 28 किग्रा है और उसे या तो सबसे ऊपर या सबसे नीचे रखा गया है। A के नीचे दो से अधिक बॉक्स रखे हैं। बॉक्स M, बॉक्स D के ठीक ऊपर रखा है। 60 किग्रा भार वाले बॉक्स और 72 किग्रा भार वाले बॉक्स के मध्य केवल एक बॉक्स रखा है। बॉक्स M का भार न तो 48 किग्रा है और न ही 60 किग्रा है। बॉक्स R का भार 36 किग्रा है। बॉक्स O, A के नीचे रखा है। 67 किग्रा भार वाले बॉक्स और 50 किग्रा भार वाले बॉक्स के मध्य एक बॉक्स रखा है। बॉक्स A का भार 67 किग्रा नहीं है। बॉक्स O के नीचे तीन से कम बॉक्स रखे हैं।

Q21. निम्नलिखित में से कौन-सा बॉक्स E के ठीक नीचे रखा गया है?

- (a) M
- (b) D
- (c) R
- (d) G
- (e) O

Q22. निम्नलिखित में से किस बॉक्स का भार 48 किग्रा है?

- (a) M
- (b) R
- (c) D
- (d) O
- (e) इनमें से कोई नहीं

Q23. D से नीचे कितने बॉक्स रखे हैं?

- (a) दो
- (b) तीन
- (c) चार
- (d) कोई नहीं
- (e) एक

Directions (24-28): एक शब्द और संख्या व्यवस्था मशीन को जब शब्दों और संख्याओं की एक इनपुट पंक्ति दी जाती है, तो वह प्रत्येक चरण में एक निश्चित नियम का अनुसरण करते हुए उन्हें व्यवस्थित करती है। निम्नलिखित इनपुट और पुनर्व्यवस्था का एक उदाहरण है:

इनपुट : new 17 subtract 48 of 29 country 54 become 35 add 36

चरण I: add new subtract 48 of 29 country 54 become 35 36 18

चरण II: 35 add new subtract 48 of 29 country 54 35 18 become

चरण III: country 35 add new subtract 48 of 54 35 18 become 30

चरण IV: 47 country 35 add subtract of 54 35 18 become 30 new

चरण V: of 47 country 35 add subtract 54 18 become 30 new 36

चरण VI: 53 of 47 country 35 add 18 become 30 new 36 subtract

इनपुट : Mid 39 Apple 56 Good 59 Orange 35 Beautiful 76 Naughty 92

Q24. किस चरण में तत्व "Mid 59 Orange" समान क्रम में हैं?

- (a) चरण I
- (b) चरण II
- (c) चरण III
- (d) चरण V
- (e) चरण VI

Q25. चरण IV में, निम्नलिखित में से कौन-सा शब्द या संख्या दाएं छोर से तीसरे तत्व के बाएं से छठे स्थान पर होगा?

- (a) 55
- (b) Apple
- (c) 59
- (d) Mid
- (e) इनमें से कोई नहीं

Q26. उपर्युक्त व्यवस्था को पूरा करने के लिए कितने चरणों की आवश्यकता होगी?

- (a) तीन
- (b) चार
- (c) छह
- (d) सात
- (e) पांच

Q27. निम्नलिखित में से कौन-सा, पुनर्व्यवस्था के बाद चरण V होगा?

- (a) Naughty 75 Good 55 Apple Orange 92 36 Beautiful 40 Mid 60
- (b) 91 Naughty 75 Good 55 Apple 36 Beautiful 40 Mid 60 Orange
- (c) 55 Apple Mid 39 Good 59 Orange 76 Naughty 92 36 Beautiful
- (d) Good 55 Apple Mid 59 Orange 76 Naughty 92 36 Beautiful 40
- (e) इनमें से कोई नहीं

Q28. चरण IV में बाएं से तीसरी संख्या तथा चरण VI में दाएं से दूसरी संख्या के बीच अंतर कितना है?

- (a) 19
- (b) 15
- (c) 5
- (d) 16
- (e) इनमें से कोई नहीं

adda247

Directions (29-33): निम्नलिखित सूचना का अध्ययन कीजिए और नीचे दिए गए प्रश्नों के उत्तर दीजिए:

चिकित्सा व्यवसाय के आठ अलग अलग व्यक्तियों की बैठक है। वे सभी वृत्तीय मेज़ के चारों ओर इस प्रकार बैठे हैं कि कुछ केंद्र की ओर उन्मुख हैं और उनमें से कुछ केंद्र से बाहर की ओर उन्मुख हैं। उनके व्यवसाय अर्थात् ऑडियोलॉजिस्ट, आहार विशेषज्ञ, मनोवैज्ञानिक, फार्मासिस्ट, चिकित्सक, नर्स, दंत चिकित्सक, रसायनज्ञ हैं।

D आहार विशेषज्ञ नहीं है। C, जो दंत चिकित्सक है G के दायीं ओर तीसरे स्थान पर बैठता है। A और G के मध्य केवल एक व्यक्ति बैठा है। E जो आहार विशेषज्ञ है, के विपरीत बैठता है और और केंद्र से बाहर की ओर उन्मुख है। E, A और C का निकटतम पड़ोसी नहीं है। G और जिसका व्यवसाय ऑडियोलॉजिस्ट है के मध्य केवल एक व्यक्ति बैठता है। A का निकटतम पड़ोसी विपरीत दिशा की ओर उन्मुख है (विपरीत दिशा का अर्थ है यदि एक पड़ोसी केंद्र की ओर उन्मुख है तो अन्य केंद्र से विपरीत की ओर उन्मुख है और इसी प्रकार आगे)। चिकित्सक G के दायीं ओर दूसरे स्थान पर बैठता है। B का व्यवसाय न तो मनोवैज्ञानिक है और न ही उस व्यक्ति का निकटतम पड़ोसी है, जिसका व्यवसाय मनोवैज्ञानिक है। दो से अधिक निकटतम पड़ोसी समान दिशा की ओर उन्मुख नहीं है। वह जिसका व्यवसाय नर्स है N के ठीक दायीं ओर बैठता है। वह जिसका व्यवसाय रसायनज्ञ है उन लोगों के मध्य बैठता है जिसका व्यवसाय नर्स और फार्मासिस्ट है। वह जो नर्स है और वह जो चिकित्सक है के मध्य कोई व्यक्ति नहीं बैठता। G, E के ठीक दायीं ओर नहीं बैठता। N जो नर्स है उसके विपरीत बैठता है। A, C का निकटतम पड़ोसी नहीं है, जो अंदर की ओर उन्मुख है।

Q29. निम्नलिखित में से कौन चिकित्सक है?

- (a) A
- (b) D
- (c) N
- (d) M
- (e) इनमें से कोई नहीं

Q30. उनमें से कितने व्यक्ति केंद्र से बाहर की ओर उन्मुख हैं?

- (a) दो
- (b) चार
- (c) तीन
- (d) पांच
- (e) छह

Q31. निम्नलिखित में से कौन-सा रसायनज्ञ है जो दाईं ओर दूसरे स्थान पर बैठता है?

- (a) फार्मासिस्ट
- (b) आहार विशेषज्ञ
- (c) दंत चिकित्सक
- (d) नर्स
- (e) चिकित्सक



Q32. निम्नलिखित में से कौन जो फार्मासिस्ट है, के विपरीत बैठता है?

- (a) M
- (b) G
- (c) C
- (d) A
- (e) इनमें से कोई नहीं

Q33. निम्नलिखित पांच में से चार एक-दूसरे से संबंधित हैं, तो ज्ञात कीजिए कौन-सा उस समूह से संबंधित कोई नहीं ढूँढें?

- (a) A
- (b) C
- (c) M
- (d) E
- (e) B

BILINGUAL

**RBI ASSISTANT MAINS
COMPLETE BATCH**

Starts February 21, 2020

12pm to 2pm & 5pm to 6 pm

Directions (34-38): निम्नलिखित जानकारी का ध्यानपूर्वक अध्ययन कीजिये और दिए गए प्रश्नों के उत्तर दीजिये।

पांच पुरुष मॉडल, अर्थात- A, B, C, D और E अन्य पांच महिला मॉडल के साथ एक रैम्प वॉक के लिए जा रहे हैं। प्रत्येक पुरुष मॉडल एक महिला मॉडल अर्थात-H, I, J, K और L के साथ जाता है, लेकिन आवश्यक नहीं कि समान क्रम में हों। इस प्रकार वे रैम्प वॉक के लिए दो के समूह में (एक पुरुष और एक महिला) जाते हैं। प्रत्येक समूह विभिन्न ब्रांड द्वारा प्रायोजित है, अर्थात- लैकमे, लोरियाल, मेबलीन, कलरबार और ओले, लेकिन आवश्यक नहीं कि समान क्रम में हों। फैशन शो में इनमें से प्रत्येक समूह की रैंकिंग भिन्न है, अर्थात- तीसरी, पांचवीं, छठवीं, चौथी और नौवीं। A, न तो मेबलीन न ही ओले द्वारा प्रायोजित है तथा उसके समूह की रैंक तीसरी और पांचवीं नहीं है। I के साथ या तो C या E है। L के समूह की रैंकिंग पांचवीं है, लेकिन यह न तो लोरियाल न ओले द्वारा प्रायोजित है। H के साथ C है। J के समूह की रैंकिंग छठवीं है एवं उसका साथी B, C और E में से एक है। कलरबार द्वारा प्रायोजित समूह की रैंकिंग तीसरी है, लेकिन C, कलरबार द्वारा प्रायोजित नहीं है। लैकमे द्वारा प्रायोजित समूह की रैंकिंग, 3 के गुणज में है लेकिन इस समूह में A और H नहीं है। लोरियाल ब्रांड द्वारा प्रायोजित समूह की रैंकिंग, ओले द्वारा प्रायोजित समूह से बेहतर है।

Q34. E के साथ निम्नलिखित में से कौन है?

- (a) I
- (b) J
- (c) L
- (d) K
- (e) इनमें से कोई नहीं

Q35. A के साथ निम्नलिखित में से कौन है?

- (a) J
- (b) K
- (c) H
- (d) I
- (e) L



Q36. D, किस ब्रांड द्वारा प्रायोजित है और इसकी रैंकिंग क्या है?

- (a) लोरियाल और छठवीं
- (b) ओले और नौवीं
- (c) मेबलीन और चौथी
- (d) मेबलीन और पांचवीं
- (e) निर्धारित नहीं किया जा सकता

Q37. ओले द्वारा प्रायोजित महिला मॉडल-पुरुष मॉडल का नाम क्या है?

- (a) J और B
- (b) H और C
- (c) J और C
- (d) H और B
- (e) निर्धारित नहीं किया जा सकता

Q38. लोरियाल द्वारा प्रायोजित समूह की रैंकिंग क्या है?

- (a) तीसरी
- (b) चौथी
- (c) छठवीं
- (d) नौवीं
- (e) पांचवीं

Q39. A, X का पिता है; B, Y की माता है। X और Z की बहन Y है। निम्न में से कौन सा कथन निश्चित ही सत्य नहीं है?

- (a) B, Z की माँ है
- (b) X, Z की बहन है
- (c) Y, A का पुत्र है
- (d) B की एक पुत्री है
- (e) B, A की पत्नी है

Q40. मोहन पश्चिम दिशा की ओर चलना आरम्भ करता है और 8 किमी चलता है, इसके बाद वह दाएं मुड़ता है और 5 किमी चलकर पुनः दाएं मुड़ता है और 2.5 किमी चलता है एवं अंत में दाएं मुड़ता है और 5 किमी चलता है, तो मोहन अपने आरम्भिक स्थान से किस दिशा में और कितनी दूरी पर है?

- (a) 5 किमी पश्चिम
- (b) 5.5 किमी पूर्व
- (c) 5 किमी पूर्व
- (d) इनमें से कोई नहीं
- (e) 5.5 किमी पश्चिम

Q41. जब हम दो-अंकों वाली एक संख्या के अंकों को रिवर्स करते हैं, तो हमें एक नई संख्या प्राप्त होती है। नई संख्या का इसके अंको के योग के साथ गुणनफल 52 है और वास्तविक संख्या का दहाई स्थान वाला अंक, इसके इकाई स्थान वाले अंक से 2 अधिक है। मूल संख्या ज्ञात कीजिये।

- (a) 39
- (b) 33
- (c) 41
- (d) 31
- (e) 37

Q42. A और B मिलकर कार्य करके एक कार्य को 72 दिनों में पूरा कर सकते हैं, B और C मिलकर समान कार्य को 90 दिनों में पूरा कर सकते हैं और A और C मिलकर करने पर समान कार्य को 75 दिनों में पूरा कर सकते हैं। यदि A, B और C मिलकर कार्य करना आरम्भ करते हैं, तो समान कार्य कितने दिनों में पूरा हो जाएगा?

- (a) $55\frac{7}{23}$ दिन
- (b) $52\frac{4}{23}$ दिन
- (c) $59\frac{2}{23}$ दिन
- (d) $49\frac{11}{23}$ दिन
- (e) $50\frac{17}{23}$ दिन

Q43. एक वस्तु का क्रय मूल्य इसके अंकित मूल्य से 39% कम है और दुकानदार को इस वस्तु को बेचने पर 40% का लाभ प्राप्त होता है। यदि लाभ की राशि, छूट की राशि से अधिक, 196 रुपये है, तो वस्तु का क्रय मूल्य ज्ञात कीजिये।

- (a) 1345 रुपये
- (b) 1325 रुपये
- (c) 1290 रुपये
- (d) 1245 रुपये
- (e) 1220 रुपये

Q44. एक नाव द्वारा धारा के प्रतिकूल 48 कि.मी. की दूरी तय करने में लिया गया समय, नाव द्वारा धारा के अनुकूल 48 कि.मी. की दूरी तय करने में लिए गये समय का 200% है। यदि नाव द्वारा धारा के प्रतिकूल 48 कि.मी. की दूरी तय करने में लिया गया समय और धारा के अनुकूल समान दूरी तय करने में लिए गये समय का योग 9 घंटे है, तो नाव की गति ज्ञात कीजिये।

- (a) 8 कि.मी./घंटा
- (b) 10 कि.मी./घंटा
- (c) 12 कि.मी./घंटा
- (d) 4 कि.मी./घंटा
- (e) 6 कि.मी./घंटा

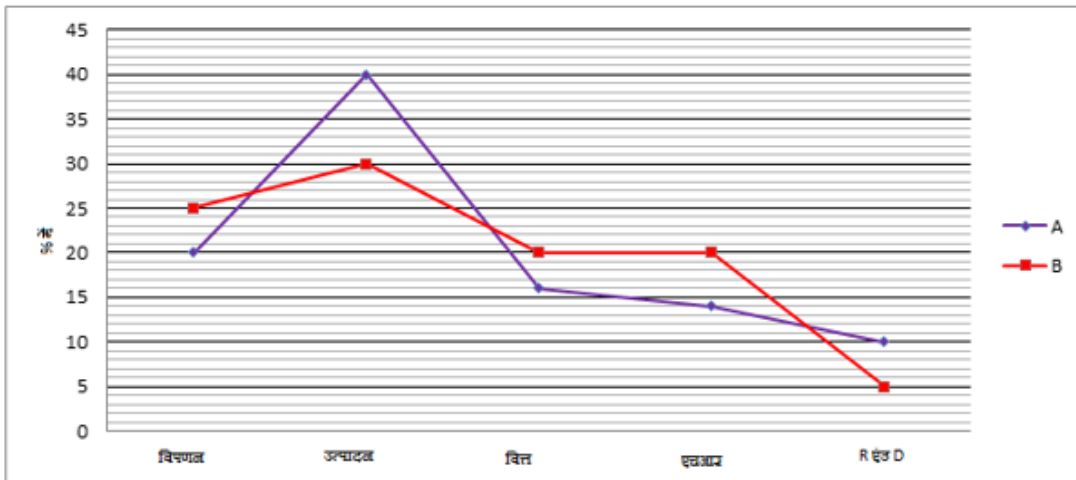
Q45. एक साझेदारी व्यवसाय में, पंकज और सुरेश 4 : 3 के अनुपात में पूँजीनिवेश करते हैं। पंकज और सुरेश ने व्यवसाय क्रमशः 5 महीने और 10 महीने बाद छोड़ दिया। सुरेश के जाने के बाद, राजू ने 50000 रुपयों के साथ व्यवसाय संभाला और 1 वर्ष बाद उन्होंने व्यवसाय बंद कर दिया। यदि एक वर्ष के अंत में, पंकज, सुरेश और राजू के लाभ के हिस्से का अनुपात 2 : 3 : 1 है, तो पंकज और सुरेश द्वारा किये गये पूँजी-निवेश के बीच अंतर ज्ञात कीजिये।

- (a) 10000 रुपये
- (b) 40000 रुपये
- (c) 30000 रुपये
- (d) 50000 रुपये
- (e) 20000 रुपये

adda247

Directions (46-50): नीचे दिए गए चार्ट का अध्ययन कीजिये तथा निम्नलिखित प्रश्नों के उत्तर दीजिये।

लाइन चार्ट, A और B कंपनी के 5 अलग-अलग विभागों (अर्थात् विपणन, उत्पादन, वित्त, एचआर और R एंड D) में कर्मचारियों के प्रतिशत वितरण को दर्शाता है और तालिका इन 2 कंपनियों के 5 विभागों में पुरुष और महिला कर्मचारियों के अनुपात को दर्शाती है। कंपनी A और B में कुल कर्मचारी क्रमशः 5000 और 8000 हैं।



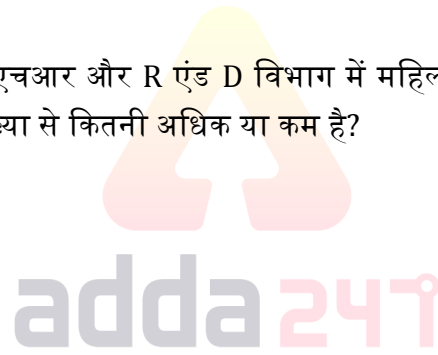
विभाग	A (पुरुष : महिला)	B (पुरुष : महिला)
विपणन	11 : 9	18 : 7
उत्पादन	3 : 2	2 : 1
वित्त	7 : 3	3 : 2
एचआर	2 : 3	1 : 4
R एंड D	13 : 12	1 : 1

Q46. कंपनी-B के विपणन और वित्त विभाग में मिलाकर पुरुष कर्मचारियों की संख्या, कंपनी-A के उत्पादन विभाग में कर्मचारियों की संख्या का कितने प्रतिशत हैं?

- (a) 130%
- (b) 110%
- (c) 140%
- (d) 120%
- (e) 150%

Q47. ज्ञात कीजिये कि कंपनी-A के वित्त, एचआर और R एंड D विभाग में महिला कर्मचारियों की औसत संख्या, कंपनी-B के एचआर विभाग में पुरुष कर्मचारियों की संख्या से कितनी अधिक या कम है?

- (a) 10
- (b) 80
- (c) 20
- (d) 50
- (e) 70



Q48. कंपनी-B के उत्पादन और R एंड D विभाग को मिलाकर पुरुष कर्मचारियों की संख्या का, कंपनी-A में एचआर और R एंड D विभाग को मिलाकर पुरुष कर्मचारियों की संख्या से अनुपात ज्ञात कीजिये।

- (a) 10 : 3
- (b) 13 : 7
- (c) 5 : 2
- (d) 6 : 1
- (e) 13 : 9

Q49. कंपनी-B के विपणन और वित्त विभाग में मिलाकर महिला कर्मचारी, कंपनी-A के विपणन और उत्पादन विभाग में महिला कर्मचारियों की तुलना में कितने प्रतिशत अधिक या कम हैं?

- (a) 25%
- (b) 12%
- (c) 4%
- (d) 9%
- (e) 16%

Q50. कंपनी-A के विपणन, उत्पादन और वित्त विभाग को मिलाकर पुरुष कर्मचारी, कंपनी-B के उत्पादन, एचआर और R एंड D विभाग में महिला कर्मचारियों से कितने अधिक या कम हैं?

- (a) 30
- (b) 70
- (c) 40
- (d) 50
- (e) 60

Directions (51-55): निम्नलिखित संख्या श्रृंखला में गलत संख्या ज्ञात कीजिये।

Q51. -18, 558, 958, 1214, 1358, 1422, 1436

- (a) 1436
- (b) -18
- (c) 558
- (d) 958
- (e) 1214

Q52. 15, 75, 129, 191, 243, 309, 357

- (a) 15
- (b) 75
- (c) 309
- (d) 243
- (e) 357

Q53. 210, 232, 270, 350, 510, 830, 1470

- (a) 210
- (b) 1470
- (c) 270
- (d) 232
- (e) 830

Q54. 48, 144, 360, 720, 1040, 1080, 540


- (a) 1040
- (b) 144
- (c) 48
- (d) 720
- (e) 540

Q55. 19, 56, 166, 494, 1474, 4406, 13184

- (a) 19
- (b) 13184
- (c) 166
- (d) 494
- (e) 4406



12 Months Subscription



BANK

Useful for Bank & Insurance Exams

TEST PACK

Directions (56-60): निम्नलिखित प्रश्नों में, या तो दो कथन (I) और (II) या तीन कथन (I), (II) और (III) दिए गये हैं। आपको निर्धारित करना है कि प्रश्नों के उत्तर देने के लिए कौन सा(से) कथन पर्याप्त/आवश्यक है/हैं।

Q56. वस्तु को अंकित मूल्य पर बेचे जाने पर इसका लाभ प्रतिशत?

I. वस्तु का क्रय मूल्य 240 रुपये है।

II. दुकानदार अंकित मूल्य पर 2.5% की छूट देता है और प्रत्येक 12 वस्तुएं खरीदने पर 1 वस्तु मुफ्त देता है और फिर भी 20% लाभ प्राप्त करता है।

(a) I और II मिलाकर

(b) केवल II

(c) न तो I न ही II

(d) केवल I

(e) या तो II या I

Q57. मर्तबान में नीली गेंदों की संख्या ज्ञात कीजिये।

I. जब यादृच्छिक रूप से दो गेंदें निकली जाती हैं तो एक नीली और एक लाल गेंद प्राप्त करने की प्रायिकता $\frac{6}{23}$ हैं।

II. 6 हरी गेंदें हैं और शेष सभी नेली और लाल है।

III. मर्तबान में 24 गेंदें हैं और नीली गेंदों की संख्या, लाल गेंदों से अधिक है।

(a) सभी तीनों को मिलाकर

(b) या तो अकेला III या I और II मिलाकर

(c) इनमें से कोई नहीं

(d) या तो अकेला II या I और III मिलाकर

(e) या तो अकेला I या II और III मिलाकर

Q58. 3430 रुपयों पर दूसरे वर्ष में प्राप्त चक्रवृद्धि ब्याज ज्ञात कीजिये?

I. चक्रवृद्धि ब्याज की समान दर पर 3430 रुपये की राशि t वर्षों में 49 गुना और $t+2$ वर्षों में 64 गुना हो जाती है

II. यदि तीसरे वर्ष में चक्रवृद्धि ब्याज x रुपये है।

(a) केवल अकेला II

(b) या तो अकेला I या II

(c) केवल अकेला I

(d) I और II मिलाकर

(e) न तो अकेला I न ही II

Q59. एक कक्षा में कुछ लड़के और लड़कियां हैं और कक्षा की औसत आयु $22\frac{8}{11}$ वर्ष है। विद्यार्थियों की कुल संख्या ज्ञात कीजिये?

I. कक्षा में लड़के और लड़कियों की औसत आयु क्रमशः 26 और 20 है।

II. जब लड़कियों की संख्या में 6 की कमी होती है तो वे आरंभिक कक्षा में कुल विद्यार्थियों का $45\frac{5}{11}\%$ होती हैं।

(a) केवल I

(b) I और II मिलाकर

(c) या तो I या II

(d) केवल II

(e) उपरोक्त में से कोई नहीं

Q60. एक बेलन का आयतन ज्ञात कीजिये जिसकी ऊंचाई 2 मीटर है।

I. बेलन से एक शंकु काटकर बनाया जाता है जिसकी आधार त्रिज्या, बेलन की त्रिज्या से आधी है और समान ऊंचाई है तथा शंकु के वक्र पृष्ठ का अनुपात बेलन के आयतन से 1:2 है।

II. बेलन को समान त्रिज्या वाले 6 गोलों में परिवर्तित किया गया है

(a) या तो अकेला II या अकेला I

(b) केवल अकेला II

(c) केवल अकेला I

(d) इनमें से कोई नहीं

(e) I और II मिलाकर

Q61. एक बैग में, कुछ लाल तथा काली तथा पीली कुल 9 गेंदें हैं। उस बैग से दो लाल गेंदें चुनने की प्रायिकता $\frac{1}{7}$ है, जो दो काली गेंदें चुनने की प्रायिकता का 250% है। बैग में पीली गेंदों की संख्या ज्ञात कीजिये यदि काली गेंदों की संख्या सम है।

(a) 3

(b) 5

(c) 6

(d) 4

(e) इनमें से कोई नहीं

Q62. एक दुकानदार कुछ लाभ अर्जित करने के लिए 10 वस्तुओं को 60 रुपये प्रत्येक के मूल्य पर बेचना चाहता है। प्रत्येक एक वस्तु के विक्रय मूल्य में 10 रुपये की वृद्धि के लिए उसके पास एक वस्तु अविक्रित रह जाती है। वह विक्रय मूल्य ज्ञात कीजिये जिस पर उसे अधिकतम लाभ होगा (कुछ अविक्रित वस्तुएं उसके पास हैं)

(a) 75 रुपये

(b) 60 रुपये

(c) 90 रुपये

(d) 80 रुपये

(e) 100 रुपये

Q63. दो उम्मीदवारों के एक विश्वविद्यालय के चुनावों में, 80% विद्यार्थियों मतदान करते हैं जिसमें से 120 मत अमान्य हैं। विजेता को कुल विद्यार्थियों के 37.5% मत प्राप्त होते हैं तथा वह केवल 30 मतों से जीतता है। तो उन विद्यार्थियों की संख्या ज्ञात कीजिये जिन्होंने मतदान नहीं किया?

(a) 360

(b) 320

(c) 340

(d) 300

(e) 380

Q64. नल A तथा B एकसाथ, एक टंकी को 6 घंटों में भर सकते हैं जबकि B तथा C एकसाथ समान टंकी को 9 घंटों में भर सकते हैं। यदि A टंकी को 4 घंटों में भरता है तथा C इसे 6 घंटों में भरता है तथा शेष टैंक को B द्वारा 5 घंटों में भरा जाता है। तो, ज्ञात कीजिये कि कितने घंटों में नल C अकेला टंकी को भर सकता है?

- (a) 17.5 घंटे
- (b) 21 घंटे
- (c) 24 घंटे
- (d) 22.5 घंटे
- (e) 27.5 घंटे

Q65. X सदस्यों के एक परिवार का औसत भार 18 कि.ग्रा. है। जब इस परिवार के तीन पुरुष सदस्यों का विवाह होता है, तो औसत भार में 1 कि.ग्रा. की वृद्धि होती है तथा जब इन तीनों की पत्नियों के कुल भार से, 18 कि.ग्रा. अधिक भार के एक वृद्ध व्यक्ति की मृत्यु होती है, तो औसत भार 16 कि.ग्रा. हो जाता है। X का मान ज्ञात कीजिये?

- (a) 24
- (b) 28
- (c) 26
- (d) 22
- (e) 25

Directions (66-70): दिए गए द्विघात समीकरणों को हल कीजिये तथा इसपर आधारित प्रश्नों के सही विकल्प का चयन कीजिये।

Q66.


- (i) $x^2 + 9x = 25x - 63$
- (ii) $4y^2 - 34y + 72 = 0$

- (a) $x = y$ या x और y के बीच कोई संबंध स्थापित नहीं किया जा सकता
- (b) $x \leq y$
- (c) $x < y$
- (d) $x > y$
- (e) $x \geq y$

Q67.

- (i) $\frac{20\% \text{ of } 225}{x} = -x + 14$
- (ii) $70y$ का $30\% = y^2 + 90$

- (a) $x \geq y$
- (b) $x > y$
- (c) $x = y$ या x और y के बीच कोई संबंध स्थापित नहीं किया जा सकता
- (d) $x \leq y$
- (e) $x < y$



TEST SERIES

Bilingual

Video Solutions



RBI ASSISTANT

MAINS

25 Total Tests | eBooks

Q68.

(i) $6x + 7y = 15$

(ii) $3x + 14y = 19.5$

(a) $x > y$

(b) $x = y$ या x और y के बीच कोई संबंध स्थापित नहीं किया जा सकता

(c) $x \leq y$

(d) $x < y$

(e) $x \geq y$

Q69.

(i) $7x^2 + 5x - 18 = 0$

(ii) $3y^2 + 4y - 20 = 0$

(a) $x > y$

(b) $x \leq y$

(c) $x = y$ या x और y के बीच कोई संबंध स्थापित नहीं किया जा सकता

(d) $x \geq y$

(e) $x < y$

Q70.

(i) $x^2 + 5x = 5(2x + 3x)$

(ii) $3y^2 + 2y = 2(y + 6)$

(a) $x > y$

(b) $x \geq y$

(c) $x < y$

(d) $x \leq y$

(e) $x = y$ या x और y के बीच कोई संबंध स्थापित नहीं किया जा सकता

Directions (71-75):- नीचे दी गयी तालिका, विकास द्वारा अलग-अलग व्यक्तियों अर्थात् (P, Q, R, S और T) को बेचे गये दूध की मात्रा के प्रतिशत के बारे में जानकारी देती है। विकास के पास 1000 लीटर शुद्ध दूध है, जिसमें से 60% वह इन व्यक्तियों को बेच देता है। प्रत्येक व्यक्ति इसमें पानी की कुछ मात्रा मिलाता है और दोबारा मिश्रण की एक मात्रा के स्थान पर समान मात्रा में पानी मिलाता है। कुछ डाटा लुप्त है, विद्यार्थियों डेटा की गणना कीजिए और निम्नलिखित प्रश्नों के उत्तर दीजिए।

व्यक्ति	खरीदे गये दूध का %	% में पानी की सांद्रता (शुद्ध दूध में पानी मिलाने के बाद)	लीटर में अंतिम मिश्रण में पानी की मात्रा (मिश्रण की एक मात्रा के स्थान पर, समान मात्रा में पानी मिलाये जाने के बाद)	लीटर में अंतिम मिश्रण में दूध की मात्रा
P	12%	-	26	54
Q	-	16.67%	-	120
R	15%	-	69	-
S	18%	28%	78	-
T	30%	25%	-	153

Q71. आरम्भ में, S द्वारा शुद्ध दूध में मिलायी गयी पानी की मात्रा, P द्वारा पानी के साथ प्रतिस्थापित मिश्रण की एक मात्रा से कितने प्रतिशत अधिक या कम है।

- (a) 105%
- (b) 110%
- (c) 120%
- (d) 80%
- (e) 72%

Q72. यदि व्यक्ति R के लिए अंतिम मिश्रण में दूध की मात्रा, व्यक्ति S की तुलना में 12.5% अधिक है, तो शुद्ध दूध में आरंभ में R द्वारा मिलायी गई पानी की मात्रा ज्ञात कीजिये।

- (a) 45 लीटर
- (b) 50 लीटर
- (c) 60 लीटर
- (d) 75 लीटर
- (e) 40 लीटर

Q73. Q के अंतिम मिश्रण में पानी की मात्रा ज्ञात कीजिए।

- (a) 30 लीटर
- (b) 50 लीटर
- (c) 45 लीटर
- (d) 60 लीटर
- (e) 40 लीटर

Q74. शुद्ध दूध का क्रय मूल्य 200 रुपये प्रति लीटर है, तो T द्वारा अर्जित लगभग लाभ प्रतिशत ज्ञात कीजिये, यदि वह पानी और दूध के अंतिम मिश्रण को, शुद्ध दूध के क्रय मूल्य पर बेचता है। मान लीजिए कि पानी मुफ्त उपलब्ध है।

- (a) 66%
- (b) 46%
- (c) 44%
- (d) 54%
- (e) 48%

Q75. यदि विकास द्वारा अन्य व्यक्ति A को बेची गई शुद्ध दूध की मात्रा का, (विकास द्वारा अन्य व्यक्ति A को बेची गई शुद्ध दूध की मात्रा, S को बेची गई शुद्ध दूध की मात्रा से 20% अधिक है) छह अलग-अलग व्यक्तियों को बेचने के बाद विकास के पास शेष शुद्ध दूध की मात्रा से अनुपात ज्ञात कीजिए।

- (a) 81/169
- (b) 64/169
- (c) 16/35
- (d) 35/78
- (e) 75/169

Directions (76-80): गद्यांश को ध्यानपूर्वक पढ़िए और निम्नलिखित प्रश्नों के उत्तर दीजिये।

दो जनरल स्टोर P और Q, पांच अलग-अलग वस्तुएं अर्थात् A, B, C, D और E बेचते हैं। इन दो स्टोर द्वारा बेची जाने वाली वस्तुओं की कुल संख्या 8400 है तथा स्टोर P द्वारा बेची गई कुल वस्तुओं का, स्टोर Q द्वारा बेची गई कुल वस्तुओं से अनुपात 3 : 4 है। स्टोर P द्वारा बेची गयी कुल वस्तु A, उस स्टोर द्वारा बेची गयी कुल वस्तु D से $16\frac{2}{3}\%$ अधिक हैं, जबकि स्टोर P द्वारा बेची गयी कुल वस्तु C, स्टोर P द्वारा बेची गयी कुल वस्तु D से 160 कम हैं। स्टोर P द्वारा बेची गयी कुल वस्तु B, स्टोर P द्वारा बेची गयी कुल वस्तु D से $77\frac{7}{9}\%$ अधिक हैं और स्टोर P द्वारा बेची गयी कुल वस्तु E, स्टोर P द्वारा बेची गयी कुल वस्तु B से 1080 कम हैं। स्टोर Q द्वारा बेची गयी कुल वस्तु D और B, 240 हैं तथा स्टोर P द्वारा बेची गयी समान वस्तुओं से क्रमशः 12.5 % अधिक हैं। स्टोर Q द्वारा बेची गयी कुल वस्तुओं A, C और E का क्रमशः अनुपात 26 : 23 : 11 है।

Q76. स्टोर Q द्वारा बेची गयी कुल वस्तु B, स्टोर P द्वारा बेची गयी वस्तु A और वस्तु D की मिलाकर कुल संख्या से कितने प्रतिशत कम है?

- (a) $7\frac{11}{13}\%$
(b) $7\frac{9}{13}\%$
(c) $7\frac{5}{13}\%$
(d) $6\frac{9}{13}\%$
(e) $7\frac{4}{13}\%$

Q77. स्टोर P और Q द्वारा बेची गयी वस्तु D की औसत संख्या ज्ञात कीजिये?

- (a) 880
(b) 800
(c) 860
(d) 840
(e) 720

Q78. स्टोर P द्वारा बेची गयी वस्तु B, वस्तु C और वस्तु E की मिलाकर कुल संख्या और स्टोर Q द्वारा बेची गयी वस्तु A और वस्तु D की मिलाकर कुल संख्या के बीच अंतर ज्ञात कीजिये?

- (a) 120
(b) 100
(c) 20
(d) 60
(e) 40

Q79. स्टोर Q द्वारा बेची गयी कुल वस्तुएं E, स्टोर P द्वारा बेची गयी समान वस्तुओं की कुल संख्या से कितने प्रतिशत अधिक हैं?

- (a) 75%
(b) 115%
(c) 125%
(d) 120%
(e) 110%

Q80. स्टोर P द्वारा बेची गयी वस्तु B और वस्तु D की मिलाकर कुल संख्या का, स्टोर Q द्वारा बेची गयी वस्तु A और वस्तु D की मिलाकर संख्या के बीच अनुपात ज्ञात कीजिये?

- (a) 2 : 1
- (b) 3 : 1
- (c) 1 : 1
- (d) 4 : 1
- (e) 2 : 3

Directions (81-85): Read the following passage and answer the following questions based on the given passage.

In his inaugural address in January 2017, US President Trump said that “protection will lead to great prosperity and strength.” Thus he began his administration with a protectionist viewpoint, and he has stuck to it, especially in the past year. The result has been one of the biggest disruptions of the global trading system since the end of World War II. Meanwhile, Trump and the leaders of the other G20 countries assembled last week in Osaka, Japan to discuss global economic issues and attempt to resolve conflicts. Many of the conflicts revolve around US trade initiatives or threats. Such conflicts are **exacerbated** by the fact that, in many democratic countries, voters have tilted in a populist direction, rejecting parties that **espouse** traditional policies of open trade and economic integration. Before discussing the recent meeting, it is worth recalling the origins of the G20. This organization of the world’s 19 largest national economies and the European Union (EU) began in 1999 as a venue for finance ministers and central bankers to discuss global economic issues. In the wake of the global crisis in 2008, it was extended to become an annual get together of heads of government. The meetings in 2008 and 2009 were crucial in that they resulted in a joint commitment to avoid protectionist policies in the face of rising unemployment and populist sentiment. Finally, the meeting in 2009 entailed a joint commitment to use fiscal and monetary policies to stabilize the global economy. At the least, it probably helped to avoid a disintegration of the global system. At the end of the summit, there was a statement endorsed by all of the leaders. Yet it was relatively vague and uncontroversial, offering support for free trade and innovation as drivers of economic growth, but failing to condemn protectionism for the first time since the G20 leaders started meeting in 2008. It appears to have been a heroic effort to paper over significant differences between the United States and the others. Still, the summit did have consequences. The United States and China agreed to a temporary truce in their ongoing trade war; that is, the United States will postpone imposition of another round of tariffs on Chinese imports, China will purchase more US agricultural products, and the two sides will continue to talk. Regardless, global businesses will likely be pleased not to face ruinous tariffs and immediate massive disruption to supply chains. This will likely continue to have a chilling effect on investment in global supply chains. All of this raises the question as to how this gets resolved. The current agreement also came about because of a meeting between the two presidents on the side lines of the G20 Summit in Osaka. The cycle will only be broken if one of two things happens. Either China accedes to US demands regarding structural economic issues (which seems unlikely), or the United States accepts a superficial deal and declares victory. The latter could happen if the United States were to worry that further trade tensions might undermine the economic recovery. Otherwise, we may be condemned to a repetition of events that suppresses investment and undermines economic expansion.

Another big issue at the G20 Summit was US relations with its traditional European and Japanese allies. The United States has imposed and/or threatened to impose significant tariffs on these countries. It has questioned the military and geopolitical alliances with these countries and has demanded greater reciprocity in terms of trade rules and military spending. Regarding Japan, Prime Minister Abe has worked very hard to solidify a relationship with US President Trump. However, the US president recently challenged Japan's geopolitical role. Specifically, in anticipation of the G20 Summit in Osaka, Trump raised questions about the usefulness of the military pact between the United States and Japan, which was signed in 1950 during the Cold War and meant to protect Japan from attack by either the Soviet Union or China. The pact calls for the United States to defend Japan from attack. In exchange, the United States gets to station troops and equipment in Japan. Trump suggested that the pact is biased and does not require that Japan defend the United States.

Q81. Why have the conflicts over the global trade worsened in past few years?

- (a) Borrowing costs remain low and asset values high.
- (b) Amidst the trade wars, the global trend of merger and acquisition (M&A) activity has shifted significantly.
- (c) The inflationary impact has been probably more than offset by a weakening of the British economy, thereby warranting an easing of monetary policy.
- (d) Voters in most of the democratic countries have rejected the political parties supporting free trade and economic integration.
- (e) None of these

Q82. What were the main issues discussed at the G20 summit held at Osaka, Japan?

- (i) The ongoing trade war between US-China
 - (ii) Relationship between global leaders, US-Japan-Europe
 - (iii) greater multistakeholder collaboration to address political, economic and societal challenges
- (a) Only (iii)
 - (b) Only (i)
 - (c) Both (i) & (ii)
 - (d) Both (ii) & (iii)
 - (e) All (i), (ii), (iii)

Q83. Which of the following has been set as the precondition by the writer for US to accept a superficial deal?

- (a) China will purchase more agricultural products, and the two sides will continue to talk.
- (b) Deal making within Europe and Japan should slow down.
- (c) EU, Japan, and China actively push for trade liberalization projects
- (d) EU nations will obtain easier access to the traditionally protectionist markets of South America.
- (e) In case US accepts that the heightening trade tensions will subvert the expected economic recovery

- Q84.** What has been the contradiction mentioned by the writer regarding the result of latest G20 summit?
- (a) Trump had mused about the United States withdrawal from the military pact with other countries but wanted to establish itself as umbrella nation for emerging economies.
 - (b) The G20 summit supported free trade for global economic growth but didn't condemn protectionism.
 - (c) As the United States has moved in a protectionist direction, there have lately been increased efforts on the part of other major economies to boost economic integration without the United States.
 - (d) While the world continues to wait for a possible trade agreement between the United States and China, many global companies are not waiting and have chosen to begin making changes to their supply chains.
 - (e) None of these

- Q85.** Why were the G20 meeting held during 2008 and 2009 important for the global economy?
- (a) The member nations had jointly approved working on a free trade agreements.
 - (b) Members states had convinced US to adopt an expansionary trade policy.
 - (c) Many emerging economies were fragile and the 2008 and 2009 meeting helped the overcome their excessive debt.
 - (d) Owing to the increasing global unemployment and populist sentiments, the members took a joint commitment against protectionism.
 - (e) None of these

Directions (86-90): Read the following passage and answer the following questions based on the given passage.

As Nirmala Sitharaman presented her maiden budget as the first fulltime women Union Finance Minister, public expectation towards the Union Budget 2019-20 have been extraordinary given the massive victory of the Modi government and the state of the economy. GDP growth has slowed down, global outlook turning gloomy amid heightened trade tensions and fear of prolonged slowdown in the euro zone.

Against this backdrop, the Finance Minister presented a budget that focuses on growth touching every aspect of the economy, especially job creation. The most reassuring aspect was the fiscal deficit target of 3.3% for FY20, although a large segment of intellectuals would have been comfortable even with 3.5 % in lieu of a growth budget. The government's focus on international borrowings will prevent crowding out the private sector borrowing in the domestic market as well as help establish sovereign yield curve. Lower borrowing in the domestic market should be positive for currency, interest rate, and therefore interest cost will come down. Housing has been and continues to be a priority for the government.

Under PMAY (Urban) nearly 24 Lakh houses have been delivered to the beneficiaries. The Finance Minister has incentivised the people buying affordable houses by increasing fiscal incentives on a home loan. The budget has provided for an increase of up to ₹1,50,000 deduction p.a. on the interest component of a home loan borrowed before March 31, 2020, provided the property value is under ₹45 lakh. With this, the total fiscal incentives on a home loan by way of interest deductions are ₹3.5 lakh p.a. **(A)**_____.

Apart from this there is already a tax benefit on repayment of principal of up to ₹1.5 lakh. Having said all this, if the borrower buying such a property also fulfils all the requirements of the PMAY scheme, then the effective overall interest rate on his home loan can be below 4 % p.a. even though the nominal home loan interest rate being 8.7% p.a. This should provide a huge boost to affordable housing. There has been a massive clean-up of the NPAs of the banking sector in the past few years and the ₹70,000 crore recapitalization plan will adequately bolster the PSU Banks' capital base and improve credit uptake.

The Finance Minister has acknowledged the role played by the NBFCs in the growth of the economy and said that the government will provide one-time six-month partial credit guarantee to PSU banks for first loss up to 10% for the purchase of high-rated pooled assets of financially-sound NBFCs. This will incentivise banks to lend to NBFCs. Ms. Sitharaman has cut the tax rate to 25% for all the corporates with an annual turnover of up to ₹400 crore from the earlier ₹250 crore, thus covering 99.30% of all corporates in India.

Q86. Which of the following is/are the obstacle/s that the Finance Minister has to deal with in order to achieve economic growth?

- (I) Euro is swelling up and Indian economy is facing a downfall because of it.
 - (II) The trade tensions have risen globally resulting in a crestfallen world.
 - (III) The GDP growth is retreating.
- (a) Only (III)
 - (b) Both (I) and (II)
 - (c) Both (II) and (III)
 - (d) (I), (II) and (III)
 - (e) None of these

Q87. As per the passage, what is the crucial area for the government to focus on in order to achieve a low interest cost?

- (a) To achieve a fiscal deficit target of 3.5% which will reassure the trust of economists into the government.
- (b) The government needs to focus on international borrowings which will help in establishing a sovereign yield curve.
- (c) The government have to incentivise the NBFCs which will lend to the banks.
- (d) Achieving the target of Housing for all by constructing houses in less than 114 days under PMAY.
- (e) None of these

Q88. Which of the following phrase(s) should fill the blank **(A)** to make it contextually meaningful and grammatically correct?

- (a) This will lead to decrease in the sales of houses in the country leading to increase in the interest rates.
- (b) This additional fiscal benefit also will lead to increase in the loan eligibility of the borrower.
- (c) The Finance Minister did a terrible thing for the home owners by giving incentives to home borrowers.
- (d) Both (A) and (C)
- (e) None of these

Q89. What can be inferred from the given passage?

- (a) The Finance Minister presented a budget that focuses on growth touching a swathe of sectors.
- (b) The massive clean-up of NPAs by the proposal of tax on cash withdrawals exceeding ₹70,000 crore.
- (c) The industry leaders underlined the need for sufficient Internet penetration and data reach to achieve the aspirations.
- (d) The Finance Minister dream to deliver a \$3 trillion economy based on inclusive economic growth.
- (e) None of these

Q90. What step(s) has been taken by the government to boost NBFCs in the Indian economy?

- (a) The government restricted exposure to NBFCs and housing finance companies, as a proportion of the loan book at 3.2 per cent and 1.1 per cent, respectively.
- (b) The government will provide a one-time six months' partial credit guarantee to public sector banks for their first loss of up to 10 per cent.
- (c) Government has decided to bring higher number of corporates under the umbrella of lower tax rates
- (d) Both (b) and (c)
- (e) None of these

Directions (91-100): In the following passage, some of the words have been omitted, each of which is indicated by a number. Find the suitable word from the options given against each number and fill up the blanks with appropriate words to make the paragraph meaningful.

After the heat and dust of the last one month, the board meeting of the Reserve Bank of India on Monday turned out to be muted and professional, as it should have been. Any summary and ____ (91) ____ action by the Centre to have its way would have created more problems than it solved, apart from it not going down well with the markets. The decisions taken by the board address the concerns of both the Centre and the central bank, though on balance it appears that the RBI carried the day. Two of the biggest concerns of the Centre where it was expecting a/an _____ (92) _____ resolution — relaxation of the Prompt Corrective Action framework on 11 public sector banks and provision of liquidity for non-banking financial companies — will be addressed at a future date. The first one has been _____ (93) _____ to a department of the RBI for examination, while no decision seems to have been taken on the second. In addition, the Centre's attempt to tap the RBI's rich reserves has also been _____ (94) _____ off for now, with the matter left to be decided by a committee set up exclusively for the purpose. This is as it should be. Given that the membership and terms of reference of the committee will be jointly decided by the Centre and the RBI, there is little scope for either side to complain of bias. The RBI has been _____ (95) _____ all of its surpluses to the Centre in the last five years based on the recommendations of an earlier committee led by Y.H. Malegam. Given this, it is unclear what more the new committee can possibly recommend on future surpluses, unless of course it is allowed to go into _____ (96) _____ of the reserves that now exist on the RBI's balance sheet.

The central bank partially _____ (97) _____ to the Centre on two other issues — the Basel capital framework for banks and easing credit flow to micro, small and medium enterprises (MSMEs). The RBI didn't _____ (98) _____ the demand for alignment of the capital norms to Basel (they are higher now), but by pushing back the deadline by a year for increasing the capital buffer, it has freed up funds for banks to lend. Again, by permitting debt _____ (99) _____ for MSME borrowers of up to ₹25 crore, the RBI has attempted to address their credit concerns, which was one of the major demands of the Centre. Clearly, there was enough give-and-take in the meeting that left both sides with the feeling that they had gained something. At Monday's meeting the board turned hands-on _____ (100) _____ for the first time in recent memory, from being just an advisory body. That the meeting went on for over nine hours clearly indicates that there was an intense exchange of views, which is not a bad thing at all. Differences between the Centre and the central bank must be thrashed out in such a setting, rather than in the media or in public speeches.

Q91. (a) Rejuvenate
(b) Debase
(c) Precipitate
(d) Acolyte
(e) None of these

Q92. (a) Haven
(b) Expeditious
(c) Ambiguity
(d) Repatriate
(e) None of these

Q93. (a) Referred
(b) Riled
(c) Finagled
(d) Gleaned
(e) None of these

Q94. (a) Altercation
(b) Entrench
(c) Chortled
(d) Staved
(e) None of these

Q95. (a) Perplexing
(b) Transferring
(c) Weaning
(d) Debilitating
(e) None of these

Q96. (a) Sharing
(b) Envisage
(c) Unsparing
(d) Diffident
(e) None of these

Q97. (a) Stymied
(b) Yielded
(c) Coaxed
(d) Emboldened
(e) None of these



BILINGUAL



**RBI ASSISTANT MAINS
COMPLETE BATCH**

Starts February 21, 2020

12pm to 2pm & 5pm to 6 pm

- Q98.** (a) Barb
(b) Reticent
(c) Voluble
(d) Concede
(e) None of these

- Q99.** (a) Recast
(b) Referendum
(c) Strait
(d) Acerbity
(e) None of these

- Q100.** (a) Eloquent
(b) Glorification
(c) Dramatize
(d) Probably
(e) None of these

Directions (101-105): In each of the following questions, a paragraph is given with three blanks and these blanks have to be filled with the same word. You are provided with four options which may or may not fill the given blanks. Choose the option which can fill all three blanks. If none of the option is suitable then choose option (E) 'None of these' as your answer.

Q101. The ASEAN's _____ is aimed at placating China by not allowing it to align with the U.S.'s vision for the region completely. India has welcomed the ASEAN's outlook on the Indo-Pacific as it sees "important elements of convergence" with its own _____ towards the region. But there was soon a realisation that such an/a _____ might allow others to shape the regional architecture and marginalise the ASEAN itself.

- (a) Dregs
(b) Approach
(c) Strait
(d) Abject
(e) None of these

Q102. The liquidator filed proceedings against the Company's directors, Christopher and Andrew Thaler, alleging that the debts owing to the ATO and Ausgrid were incurred while the Company was _____. The Court ultimately found that the liquidator had made out the _____ trading claim and questioned whether any liability for _____ trading should be apportioned between the two directors to reflect their different periods of directorship.

- (a) Insolvent
(b) Fawning
(c) Aegis
(d) Doggerel
(e) None of these

Q103. Many bacterial species have been found to exist in a/an _____ but non-culturable state. Jeanne Moldenhauer discusses this phenomenon and makes suggestions as to why we don't often see an increase in _____ cells when using several methods. Moldenhauer discussed some changes in how clinical microbiologists are evaluating samples for _____ cultures.

- (a) Venal
- (b) Opulent
- (c) Chortle
- (d) Viable
- (e) None of these

Q104. Councillors decided to _____ a controversial mill extension after they were unsure about the effect it would have on close neighbours. Amid criticism of inaccuracy in drawings accompanying the application, councillors voted to _____ the plans pending clarification about some issues. A bid by Coun David Kirton (Con, Hipperholme and Lightcliffe) to approve the application was defeated and Coun Faisal Shoukat's proposal to _____ the application was supported.

- (a) Platitude
- (b) Defer
- (c) Reticent
- (d) Buoyant
- (e) None of these

Q105. "Today is just a spill over of what we saw on Friday after _____ US jobs numbers. Despite the _____ numbers, market is expecting rate cut just not as aggressive it would be but \$1,400 is pretty _____ support level for gold," said Howie Lee, an economist at OCBC Bank.

- (a) Eloquent
- (b) Precarious
- (c) Strong
- (d) Impound
- (e) None of these

adda247

Directions (106-110): Rearrange the following sentences in the proper sequence to form a meaningful paragraph and then answer the questions given below. There is a possibility that one of the sentences is inconsistent with the rest of the statements and is not a part of the coherent paragraph, therefore read all the sentences carefully and only then rearrange.

- (A) The government's proposal added fuel to the fire by levying a surcharge on the high-income group coupled with the tax on buyback
- (B) Lowering the prospect of a rate cut by the Federal Reserve further played spoilsport
- (C) As a mix of global factors and domestic concerns emanating from some of the proposals in the Budget spooked investors.
- (D) While the overall negative trend in emerging markets on account of a robust U.S. jobs data
- (E) It is a three-year road map for medium term objective to be achieved for improving regulation, supervision of the central bank
- (F) The first trading session of the equity markets after the Union Budget saw stocks in a free-fall mode on Monday
- (G) And increase in public holding in listed entities dampened investor sentiments

Q106. From the given options, which of the statement does not fit in the passage after rearrangement to make a coherent and meaningful paragraph?

- (a) E
- (b) G
- (c) D
- (d) C
- (e) None of these.

Q107. Which of the following would be the fourth sentence after rearrangement?

- (a) E
- (b) A
- (c) F
- (d) G
- (e) None of these.

Q108. Among the following pairs which one of them is formed with two consecutive statements after the rearrangement?

- (a) CA
- (b) AD
- (c) CD
- (d) EG
- (e) None of these.

Q109. Which of the following would be the penultimate sentence after rearrangement?

- (a) A
- (b) D
- (c) F
- (d) E
- (e) None of these.

Q110. From the given options, which of the following can fit the above passage after rearrangement to make a coherent and meaningful paragraph?

- (a) NBFCs historically were loosely regulated, the situation is now changing, with the central bank proposing new rules to monitor the asset-liability
- (b) The RBI lowered the US dollar purchases in May by almost half the purchases in May to just about \$2.5 billion as the inflows slowed
- (c) The market breadth was also very weak with nearly 2,000 stocks losing ground on the BSE, as against only 534 gainers
- (d) The central bank has remained a very passive participant in the forward markets as well
- (e) None of these.

Q111. Read each of the following four sentences to find out whether there is any grammatical mistake/error in it. Choose the sentence which is grammatically incorrect as the correct answer. If all the given sentences are grammatically correct then choose "All are correct".

(a) The Nobel committee noted that the duo's work "brought us considerably closer to answering the important question of how we can achieve sustained and sustainable economic growth".

(b) In his 2005 bestselling novel "Bounce", Matthew Syed talks about the power of practice and sacrifice that yields high performance.

(c) The book offers a compelling narrative of the hard work and sacrifice that goes on behind the scenes to nurture and create high performers in sport, art and science.

(d) Since decades, experts have advised us to take 10,000 steps a day for better health. The number is even coded into fitness trackers as a goal.

(e) All are correct

Q112. Read each of the following four sentences to find out whether there is any grammatical mistake/error in it. Choose the sentence which is grammatically incorrect as the correct answer. If all the given sentences are grammatically correct then choose "All are correct".

(a) Mr. Romer proposed the endogenous growth model where technological progress is seen as the outgrowth of businesses and other entities investing in research and development.

(b) I have lost count of the number of people I have met or read about here, who beaver around behind the scenes doing charity work at their own expense.

(c) While the principle of value investing began to gain traction in the U.S and created enormous wealth for its early adopters, the Indian example stood in stark contrast to its U.S counterpart.

(d) Rain Industries began as a cement company owned by a certain Radhakrishna Reddy and a few partners catering to the burgeoning demand of the Indian Infra sector.

(e) All are correct

Q113. Read each of the following four sentences to find out whether there is any grammatical mistake/error in it. Choose the sentence which is grammatically incorrect as the correct answer. If all the given sentences are grammatically correct then choose "All are correct".

(a) The writer mentioned in his speech, "If my grandfather would not have emigrated to the United States, I wouldn't be living in Seattle."

(b) Little has been done to fulfil what the Road Transport Ministry promises: that the Centre and the States will work to improve safety as a joint responsibility.

(c) The study found that States that were relatively better developed than the rest of the country were also host to more migrants.

(d) In a bold move, Jagan Mohan Reddy decided to merge his father's business with his own and plotted an acquisition that can best be described as pure insanity.

(e) All are correct

Q114. Read each of the following four sentences to find out whether there is any grammatical mistake/error in it. Choose the sentence which is grammatically incorrect as the correct answer. If all the given sentences are grammatically correct then choose "All are correct".

- (a) Apart from steps to arrest the violence against the migrants and stop the exodus, the Gujarat government must commit itself to a facilitating role for job-creation.
- (b) The State must follow a more holistic policy of creating incentives for firms leading to greater employment, instead of merely dictating higher recruitment of locals.
- (c) The Tamil Nadu Governor's office had complained to the police, seeking to book Mr. Gopal under Section 124 of the IPC, citing some articles published in the magazine.
- (d) By borrowing more than what his entire business was worth and acquiring a company in the U.S Jagan was venturing into territories seldom explored.
- (e) All are correct

Q115. Read each of the following four sentences to find out whether there is any grammatical mistake/error in it. Choose the sentence which is grammatically incorrect as the correct answer. If all the given sentences are grammatically correct then choose "All are correct".

- (a) The Centre has watered down the national bus body standards code in spite of a commitment given to the Supreme Court, by requiring only self-certification by the builders.
- (b) Lee is an epidemiologist at Brigham and Women's Hospital in Massachusetts who focuses on how physical activity can promote health and prevent chronic disease.
- (c) Yechury objected the issue of central monitoring of the development of aspirational districts, saying it was leaving the states out of the scheme of things.
- (d) Along with several studies out this year, the results reveal the incredible power of simply doing what humans have done since we stopped swinging from trees.
- (e) All are correct

Directions (116-120): In the following questions a sentence is given, some words are given in bold which may have grammatical or spelling error or they may be contextually incorrect. Two columns (I) and (II) are given, column (I) consists of bold words of the sentence and column (II) consists of the appropriate replacement for the bold words. Match the correct replacements. If the sentence is correct mark no error as your answer.

Q116. For its part, the IT department fears that start-ups may be used as convenient tools to **launder** illegally acquired money, so a tax on investments beyond a certain threshold is necessary to **entrench** such shady operations. But while the intent of such an angel tax may be **justifiable**, the arbitrary nature of it means the cost of unintended consequences could be larger than the supposed benefits.

COLUMN I

- (A) launder
- (B) entrench
- (C) justifiable

COLUMN II

- (D) chortle
- (E) deter
- (F) preclude

- (a) (A)-(D)
- (b) (B)-(E) & (C)-(F)
- (c) (A)-(D) & (B)-(E)
- (d) (B)-(E)
- (e) No error

Q117. Popular deposit schemes such as chit funds and gold schemes, usually do not come under the **purview** of government regulators. But these unregulated schemes have also been misused by some miscreants to **culminate** the money of depositors with the promise of unbelievably high returns in a short period of time. The Saradha chit fund scam in West Bengal is just one example of such a **hienous** financial crime against depositors.

COLUMN I

- (A) purview
- (B) culminate
- (C) hienous

COLUMN II

- (D) gainsay
- (E) swindle
- (F) heinous

- (a) (A)-(D)
- (b) (C)-(F)
- (c) (B)-(E) & (C)-(F)
- (d) (B)-(E)
- (e) No error

Q118. Finance Minister Arun Jaitley **engenders** that revenues will not be hit by the rate cut. The implicit assumption is that higher sales volumes will compensate the **rustic**. Developers may be forced to raise base prices as critical inputs, particularly cement (taxed at 28%), **eschew** high levies that can no longer be offset.

COLUMN I

- (A) engenders
- (B) rustic
- (C) eschew

COLUMN II

- (D) reckons
- (E) exchequer
- (F) entail

- (a) (A)-(D) & (B)-(E)
- (b) (A)-(D) & (C)-(F)
- (c) (B)-(E) & (C)-(F)
- (d) (A)-(D), (B)-(E), (C)-(F)
- (e) No error

Q119. Another provision **envisages** a political role for the military as a guardian of the Constitution. Thursday's parliamentary vote initiating these changes will have to be **ratified** in a popular referendum, but few doubt the establishment's capacity to secure it. The economy has returned to a growth **trajectory** following an International Monetary Fund loan in 2016, in exchange for cuts in public subsidies.

COLUMN I

- (A) envisages
- (B) ratified
- (C) trajectory

COLUMN II

- (D) mitigated
- (E) lambasted
- (F) gossamer

- (a) (A)-(D) & (C)-(F)
- (b) (B)-(E) & (C)-(F)
- (c) (A)-(D), (B)-(E), (C)-(F)
- (d) (A)-(D) & (B)-(E)
- (e) No error

Q120. The weakness in the farm sector is **undergrinding** the unprecedented softness in food prices. The December CPI data showed continuing deflation in food items. While the RBI's inflation **calculus** clearly benefits from the ongoing trend in price gains, the MPC is justifiably **vociferous** of the tenuousness of the assumptions it has made for its forward projections.

COLUMN I

(A) undergrinding

(B) calculus

(C) vociferous

(a) (A)-(D) & (C)-(F)

(b) (A)-(D) & (B)-(E)

(c) (B)-(E) & (C)-(F)

(d) (A)-(D)

(e) No error

COLUMN II

(D) undergirding

(E) didactic

(F) cognizant

Q121. एमएस एक्सेल में टेक्स्ट को बोल्ट करने के लिए निम्न में से कौन सा शॉर्ट कट कुंजी संयोजन है?

(a) Ctrl + नीचली तीर कुंजी

(b) Ctrl + 2

(c) Ctrl + 3

(d) Ctrl + 4

(e) इनमें से कोई नहीं

Q122. चयनित वेबसाइटों तक पहुंच प्रतिबंधित करने के लिए निम्न में से किस प्रोग्राम का उपयोग किया जाता है?

(a) चैनल

(b) फ़िल्टर

(c) ब्राउज़र्स

(d) टेलनेट

(e) इनमें से कोई नहीं

Q123. एक कंप्यूटर नेटवर्क या इंटरनेट से अपने कंप्यूटर पर सॉफ्टवेयर या अन्य फ़ाइलों को पुनर्प्राप्त करने के लिए किस शब्द का प्रयोग किया जाता है।

(a) अपलोड

(b) डाउनलोड

(c) शेयर करना

(d) मेलिंग

(e) इनमें से कोई नहीं

Q124. _____ कार्य करने में सहायता के लिए कंप्यूटर पर प्रयुक्त कंप्यूटर प्रोग्राम का एक समूह है।

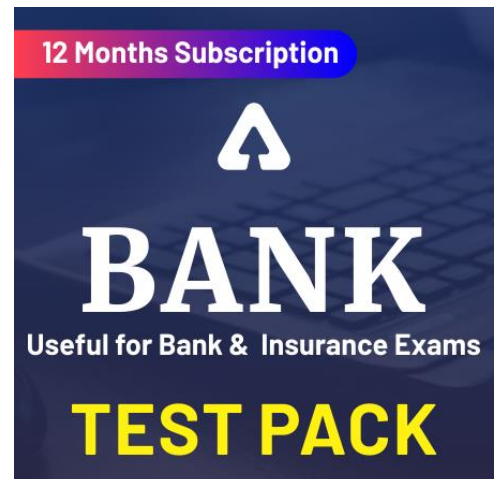
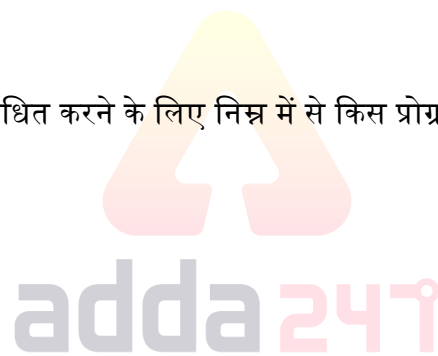
(a) एक निर्देश

(b) मेमोरी

(c) एक प्रोसेसर

(d) सॉफ्टवेयर

(e) इनमें से कोई नहीं



Q125. सीपीयू का कौन सा हिस्सा कम्प्यूटर सिस्टम की सभी गतिविधियों को निर्देशित करता है?

- (a) मदरबोर्ड
- (b) समन्वय बोर्ड
- (c) नियंत्रण इकाई
- (d) अरिथ्मेटिक एवं लॉजिक यूनिट
- (e) इनमें से कोई नहीं

Q126. एमएस वर्ड में अनुवाद सुविधा किस टैब के तहत उपलब्ध है?

- (a) पेज लेआउट
- (b) रिव्यू
- (c) होम
- (d) चेंज
- (e) एडिट

Q127. किसी चयनित फ़ाइल का नाम बदलने के लिए निम्न में से किस कुंजी का उपयोग किया जाता है?

- (a) F1
- (b) F2
- (c) F5
- (d) F9
- (e) F4

Q128. एक्सेस में क्वेरी का उपयोग किस प्रकार किया जा सकता है?

- (a) विभिन्न तरीकों से डेटा को देखें, बदलें और विश्लेषण करें
- (b) फॉर्म और रिपोर्ट के लिए रिकॉर्ड का स्रोत
- (c) इंटरनेट का उपयोग करने के लिए
- (d) दोनों a और b
- (e) इनमें से कोई नहीं

Q129. डिजिटल कंप्यूटर डेटा और प्रोग्राम एन्कोड करने के लिए एक _____ प्रणाली का उपयोग करते हैं।

- (a) सेमीकंडक्टर
- (b) डेसीमल
- (c) बाइनरी
- (d) RAM
- (e) ROM

Q130. ब्लूटूथ उपकरणों का काम करना निम्नलिखित में से किस मॉडल निर्भर करता है?

- (a) ग्राहक / सर्वर
- (b) पीयर-टू-पीयर
- (c) मास्टर / गुलाम
- (d) एनालॉग / डिजिटल
- (e) इनमें से कोई नहीं

Q131. इनमें से कौन सा एक वीडियो प्रारूप है?


- (a) जेपीईजी
- (b) जीआईएफ
- (c) एफएलवी
- (d) पीएनजी
- (e) इनमें से कोई नहीं

Q132. फ़ाइलों को संचालित करने और बदलने के लिए फ़ाइल-एडिट, फॉर्मेट और टूल्स जैसी स्क्रीन के शीर्ष पर कमांड _____ में शामिल की गई हैं।

- (a) मेनू बार
- (b) टूल बार
- (c) यूजर फ्रेंडली
- (d) वर्ड प्रोसेसर
- (e) इनमें से कोई नहीं

Q133. किसी कंप्यूटर के घटक काम कर रहे हैं और ठीक से जुड़े हुए हैं इसकी जाँच किस प्रक्रिया द्वारा होती है?

- (a) बूटिंग
- (b) प्रोसेसिंग
- (c) सेविंग
- (d) एडिटिंग
- (e) इनमें से कोई नहीं



Q134. Alt + F4 का उपयोग किसके लिए किया जाता है?

- (a) वर्तमान में सक्रिय प्रोग्राम को बंद करने के लिए
- (b) पिछली कार्रवाई को पूर्ववत करने के लिए
- (c) चयनित पाठ के लिए हाइपरलिंक इन्सर्ट करने के लिए
- (d) पिछली कार्रवाई को फिर से करने के लिए
- (e) इनमें से कोई नहीं

Q135. कॉलम का चयन करने के लिए सबसे आसान तरीका है?

- (a) कॉलम में शीर्ष सेल से कॉलम में अंतिम सेल तक खींचना
- (b) कॉलम में किसी भी सेल पर डबल क्लिक करना
- (c) पंक्ति के शीर्षक पर क्लिक करना
- (d) कॉलम के शीर्षक पर क्लिक करना
- (e) उपर्युक्त में से कोई नहीं

Q136. पावरपॉइंट में हैंडआउट मास्टर क्या होता है?

- (a) एक कनेक्शन स्थापित करने के लिए एक टर्मिनल
- (b) आसान और त्वरित कार्यों के लिए एक एनीमेशन उपकरण
- (c) .ppt फ़ाइल को .doc में बदलने वाला एक कनवर्टर
- (d) अपनी प्रस्तुति से स्लाइड प्रस्तुतियों का प्रिंटआउट
- (e) छवियों की एक निर्देशिका

Q137. निम्नलिखित में से किस संख्या प्रणाली बेस -16 है?

- (a) एकआधारी संख्या प्रणाली
- (b) द्विआधारी संख्या प्रणाली
- (c) अस्थायी संख्या प्रणाली
- (d) हेक्साडेसिमल संख्या प्रणाली
- (e) उपर्युक्त में से कोई नहीं

Q138. एक नोट या एनोटेशन क्या है जो लेखक या समीक्षक किसी दस्तावेज़ में जोड़ता है?

- (a) कमेंट
- (b) कैप्शन
- (c) फूटर
- (d) शीर्षलेख
- (e) अंडरलाइन

Q139. किस तरह की तकनीक बोले गए शब्दों को कैप्चर करती है और उन्हें वाक्यों में बनाती है कि कंप्यूटर समझ सकता है और प्रतिक्रिया दे सकता है?

- (a) भाषा अनुवादक
- (b) स्वचालित भाषण मान्यता
- (c) दुभाषिए
- (d) डायलॉग डेसिफर
- (e) बायो-मेट्रिक्स

Q140. निम्न में से कौन-सा संचार प्रोटोकॉल है जो वेब आधारित जानकारी तक पहुंचने वाले प्रत्येक कंप्यूटर द्वारा उपयोग किए जाने वाले मानक को सेट करता है?

- (a) XML
- (b) DML
- (c) HTTP
- (d) HTML
- (e) इनमें से कोई नहीं

Q141. निम्नलिखित में से कौन-सा 202.101.10.10 से संबंधित है?

- (a) हार्डवेयर एड्रेस
- (b) मॉनिटर एड्रेस
- (c) आईपी एड्रेस
- (d) इनमें से सभी
- (e) इनमें से कोई नहीं

Q142. इनमें से कौन-सा एक वेब ब्राउज़र है?

- (a) पेंट
- (b) पावरपॉइंट
- (c) एज
- (d) वर्ड
- (e) सभी वेब ब्राउज़र हैं

Q143. निम्न में से कौन-सा एक गुप्त कोड लागू करके किसी संदेश को गडमड कर देता है?

- (a) एन्क्रिप्शन
- (b) ऑडिट
- (c) यूपीएस
- (d) फायरवॉल
- (e) उपर्युक्त में से कोई नहीं

Q144. पहले इलेक्ट्रॉनिक डिजिटल कंप्यूटर में _____ था?

- (a) इलेक्ट्रॉनिक वाल्व
- (b) तंत्रिका नेटवर्क
- (c) अस्पष्ट तर्क
- (d) अर्धचालक स्मृति
- (e) इनमें से कोई नहीं

Q145. विजुअल फॉक्सप्रो क्या है?

- (a) आरडीएमबीएस
- (b) डीबीएमएस
- (c) प्रोग्रामिंग भाषा
- (d) उपरोक्त सभी
- (e) इनमें से कोई नहीं

Q146. निम्नलिखित में से कौन सा एक यूआरएल में निहित होना चाहिए?

- (a) एक प्रोटोकॉल पहचानकर्ता
- (b) अक्षर, www
- (c) अद्वितीय पंजीकृत डोमेन नाम
- (d) डब्ल्यूडब्ल्यूडब्ल्यू और अद्वितीय पंजीकृत डोमेन नाम
- (e) एक प्रोटोकॉल पहचानकर्ता, www और अद्वितीय पंजीकृत डोमेन नाम



TEST SERIES

Bilingual

Video Solutions



RBI ASSISTANT

MAINS

25 Total Tests | eBooks

Q147. इनमें से कौन-सा सरल संचार से संबंधित है?

- (a) एकल तार और दो तरफा संचार
- (b) टेलीविजन
- (c) दो तार संचार
- (d) वाकी-टॉकी
- (e) इनमें से कोई नहीं

Q148. इलेक्ट्रॉनिक शीट्स को जांचने के लिए उत्तर पुस्तिकाओं में निम्न तकनीकों का उपयोग किस प्रकार किया जाता है?

- (a) एमआईसीआर
- (b) ओएमआर
- (c) ओसीआर
- (d) बार कोड
- (e) इनमें से कोई नहीं

Q149. इनमें से कौन-सा अनूठा नाम है जिसे आप इनफार्मेशन की फाइल में देते हैं?

- (a) डिवाइस अक्षर
- (b) फ़ोल्डर
- (c) फ़ाइल का नाम
- (d) फ़ाइल नाम एक्सटेंशन
- (e) इनमें से कोई नहीं

Q150. एक प्रकार का निर्देश जो मशीन भाषा कोड की कई पंक्तियां उत्पन्न कर सकता है उसे _____ कहा जाता है।

- (a) नेमोनिक
- (b) एड्रेस
- (c) मैक्रो
- (d) असेम्बल
- (e) इनमें से कोई नहीं

Q151. वर्ड प्रोसेसिंग, स्प्रेडशीट, और फोटो एडिटिंग किस प्रकार के सॉफ्टवेयर के उदाहरण हैं?

- (a) एप्लीकेशन सॉफ्टवेयर
- (b) सिस्टम सॉफ्टवेयर
- (c) ऑपरेटिंग सिस्टम सॉफ्टवेयर
- (d) प्लेटफार्म सॉफ्टवेयर
- (e) इनमें से कोई नहीं

Q152. जावा को निम्नलिखित में से किस संगठन द्वारा पेश किया गया था?

- (a) सन माइक्रोसिस्टम
- (b) आईबीएम
- (c) इंटेल
- (d) माइक्रोसॉफ्ट
- (e) एटी एंड टी

Q153. किस प्रकार की वेब तकनीक एक ऑनलाइन समुदाय बनाती है जहां लोग वक्तव्य दे सकते हैं और अन्य उन वक्तव्यों को पढ़ सकते हैं और उत्तर दे सकते हैं?

- (a) आई-जर्नल
- (b) पॉडकास्ट
- (c) एएसपी
- (d) ब्लॉग
- (e) उपर्युक्त में से कोई नहीं

Q154. सिम (SIM) का पूरा रूप क्या है?

- (a) Station Identity Module
- (b) System Identity Module
- (c) Subscriber Identity Module
- (d) Subscriber Trunk Dialling
- (e) इनमें से कोई नहीं

Q155. किस प्रकार की तकनीक आपको इंटरनेट पर किसी के साथ मौखिक रूप से बात करने की अनुमति देती है?

- (a) विकी
- (b) सोशल नेटवर्क
- (c) ई फोन
- (d) वीओआईपी
- (e) इनमें से कोई नहीं



Q156. निम्नलिखित में से कौन सा राउटर फंक्शन का वर्णन करता है?

- (a) पैकेट स्विचिंग
- (b) पैकेट फिल्टरिंग
- (c) इंटरनेटवर्क कम्प्युनिकेशन
- (d) पाथ सिलेक्शन
- (e) उपर्युक्त सभी

Q157. समय-समय पर फ़ाइल रिकॉर्ड जोड़ने, बदलने और हटाने को क्या कहा जाता है?

- (a) नवीनीकरण
- (b) उन्नयन
- (c) पुनर्गठन
- (d) अद्यतन
- (e) इनमें से कोई नहीं

Q158. बूटस्ट्रैप क्या है?

- (a) एक मेमोरी डिवाइस
- (b) कंप्यूटर का सपोर्ट करने के लिए एक डिवाइस
- (c) एक त्रुटि सुधार तकनीक
- (d) एक कंप्यूटर शुरू करने के लिए एक छोटा प्रारंभिक कार्यक्रम
- (e) उपर्युक्त में से कोई नहीं

Q159. इन्सर्ट, कैप लॉक और नम लॉक सभी _____ कुंजी के उदाहरण हैं।

- (a) नियंत्रण
- (b) फंक्शन
- (c) टॉगल
- (d) शॉर्टकट
- (e) इनमें से कोई नहीं

Q160. लाइन प्रिंटर की गति _____ के संदर्भ में निर्दिष्ट है।

- (a) रेखा प्रति मिनट
- (b) प्रति मिनट चरित्र
- (c) प्रति मिनट डॉट
- (d) इनमें से सभी
- (e) इनमें से कोई नहीं


adda247

Q161. आनुवांशिक परीक्षण पर AIIMS किस विश्वविद्यालय के साथ सहयोग करेगा?

- (a) ऑक्सफोर्ड विश्वविद्यालय
- (b) हार्वर्ड यूनिवर्सिटी
- (c) मिशिगन विश्वविद्यालय
- (d) स्टैनफोर्ड यूनिवर्सिटी
- (e) इनमें से कोई नहीं

Q162. HSBC ने व्यवसाय बैंकिंग सेवा प्रदान करने के लिए कौन सा ऐप लॉन्च किया है?

- (a) एचएसबीसी काइनेटिक
- (b) एचएसबीसी केवाईसी
- (c) एचएसबीसी पब-ट्रांस
- (d) एचएसबीसी ई-सर्व
- (e) इनमें से कोई नहीं

Q163. कौन सा देश 2020 में शंघाई सहयोग संगठन समिट की सरकार के 19 वें काउंसिल के प्रमुख की मेजबानी करने जा रहे हैं?


- (a) ब्राज़िल
- (b) भारत
- (c) चीन
- (d) रूस
- (e) इनमें से कोई नहीं

Q164. चार दिवसीय महासागर नृत्य महोत्सव 2019 किस देश में आयोजित किया गया था?

- (a) भारत
- (b) नेपाल
- (c) बांग्लादेश
- (d) चीन
- (e) श्रीलंका

Q165. निम्नलिखित में से किसे 27 वें क्वालिटी शिखर सम्मेलन में किसे 'क्वालिटी रत्न' पुरस्कार से सम्मानित किया गया है?

- (a) भगवती लाल व्यास
- (b) सत्य नारायण
- (c) मनीषा कुलश्रेष्ठ
- (d) सुरेश कृष्ण
- (e) इनमें से कोई नहीं



Q166. टर्म मनी मार्केट के तहत फंड को _____ के बीच की अवधि के लिए लेन-देन किया जाता है?

- (a) 30 दिन और 365 दिन
- (b) 2 दिन और 14 दिन
- (c) 15 दिन और 365 दिन
- (d) 1 दिन और 14 दिन
- (e) इनमें से कोई नहीं

Q167. CCIL जी-सेक के लिए क्लियरिंग एजेंसी है, CCIL का पूर्ण रूप क्या है?

- (a) Clean Corporation of India Limited
- (b) Cleaning Corporation of India Limited
- (c) Clearing company of India Limited
- (d) Clearing Corporation of India Limited
- (e) Clearing committee of India Limited

Q168. पूंजी बाजार में दो प्रकार के बाजार होते हैं, अर्थात्?

- (a) ऋण बाजार और मुद्रा बाजार
- (b) मुद्रा बाजार और भारत व्यक्तिगत ऋण बाजार
- (c) प्राथमिक बाजार और मुद्रा बाजार
- (d) प्राथमिक बाजार और द्वितीयक बाजार
- (e) इनमें से कोई नहीं

Q169. 28 जनवरी 2020 को एक्विजम बैंक के वर्तमान प्रबंध निदेशक कौन हैं?

- (a) राजीव कुमार सिंह
- (b) मदनेश कुमार मिश्रा
- (c) अरुण कुमार सिंह
- (d) डेविड रसकिन्हा
- (e) इनमें से कोई नहीं

Q170. बैंकिंग विनियमन अधिनियम, 1949 के किस अनुभाग के तहत, छोटे वित्त बैंकों को लाइसेंस दिया जाता है?

- (a) अनुभाग 22
- (b) अनुभाग 30
- (c) अनुभाग 32
- (d) अनुभाग 52
- (e) अनुभाग 20

Q171. भारतीय रिज़र्व बैंक भुगतान प्रणाली विजन 2021 दस्तावेज़ के अनुसार दिसंबर 2019 से 24 × 7 आधार पर एनईएफटी प्रणाली उपलब्ध कराएगा. NEFT का पूर्ण रूप क्या है?

- (a) National Electronic Funds Transaction
- (b) National Electronic Funds Treaty
- (c) National Electronic Funds Transfer
- (d) National Electronic Financial Transfer
- (e) Nominal Electronic Funding Transfer

Q172. निम्नलिखित में से किस कार्ड ने आइडेंटिटी चेक एक्सप्रेस एक नेक्स्ट जनरेशन के मोबाइल-फर्स्ट प्रमाणीकरण समाधान को लॉन्च करने की घोषणा की है, जिसका उद्देश्य भारतीय उपभोक्ताओं के लिए ई-कॉमर्स यात्रा को फिर से परिभाषित करना है?

- (a) RuPay
- (b) मास्टरकार्ड
- (c) वीज़ा
- (d) मेस्ट्रो
- (e) कैपिटल वन

Q173. ओरिएंटल बैंक ऑफ कॉमर्स के प्रबंध निदेशक और मुख्य कार्यकारी अधिकारी कौन हैं?

- (a) मुकेश कुमार जैन
- (b) पीएस जयकुमार
- (c) राकेश शर्मा
- (d) पीवी भारती
- (e) सतीश कुमार कालरा

Q174. यूनाइटेड बैंक ऑफ इंडिया एक भारतीय सरकार के स्वामित्व वाला बैंक है, जिसका मुख्यालय _____ में स्थित है?

- (a) चेन्नई
- (b) कोलकाता
- (c) मुंबई
- (d) नई दिल्ली
- (e) हैदराबाद

Q175. बैंक ऑफ बड़ौदा के वर्तमान प्रबंध निदेशक और सीईओ कौन हैं?

- (a) सुनील मेहता
- (b) संजीव चड्ढा
- (c) कल्याण बसु
- (d) उषा अनंतसुब्रमण्यन
- (e) अरुण श्रीवास्तव

Q176. निम्नलिखित में से किस देश ने हाल ही में पहली आर्कटिक ट्रेन सेवा शुरू की है?


- (a) जापान
- (b) रूस
- (c) भारत
- (d) चीन
- (e) इनमें से कोई नहीं

Q177. जब भारत सरकार की सभी प्राप्तियों और खर्चों के बीच पूंजी और राजस्व दोनों में अंतर होता है, तो इसे कहा जाता है:

- (a) राजस्व घाटा
- (b) बजटीय घाटा
- (c) शून्य बजट
- (d) ट्रेड गैप
- (e) भुगतान समस्या का संतुलन

Q178. भारत में, म्यूचुअल फंड्स किसके द्वारा विनियमित किये जाते हैं?

- (a) भारतीय प्रतिभूति और विनियम बोर्ड
- (b) भारतीय रिजर्व बैंक
- (c) भारतीय स्टेट बैंक
- (d) भारत का लघु औद्योगिक विकास बैंक
- (e) दिए गए विकल्पों में से कोई भी सत्य नहीं है



BILINGUAL

**RBI ASSISTANT MAINS
COMPLETE BATCH**

Starts February 21, 2020

12pm to 2pm & 5pm to 6 pm

Q179. _____ ने राज्य और केंद्रीय बजट का आकलन करने के लिए एक राजकोषीय प्रदर्शन सूचकांक (FPI) लॉन्च किया है?

- (a) इंटरनेट एंड मोबाइल एसोसिएशन ऑफ इंडिया
- (b) फिक्की
- (c) नैसकॉम
- (d) भारतीय उद्योग परिसंघ
- (e) इनमें से कोई नहीं

Q180. तमिलनाडु में ग्रामीण महिलाओं के वित्तीय समावेशन के उद्देश्य से L&T फाइनेंशियल सर्विसेज द्वारा कौन सा शैक्षिक कार्यक्रम शुरू किया गया है?

- (a) डिजिटल नारी
- (b) डिजिटल सखी
- (c) डिजिटल एम्पावर्मेंट
- (d) डिजिटल वीमेनपॉवर
- (e) इनमें से कोई नहीं

Q181. हाल ही में, आर.ए शंकर नारायणन किस बैंक के एमडी और सीईओ के पद से सेवानिवृत्त हुए हैं?

- (a) एक्सिस बैंक
- (b) यूनियन बैंक ऑफ इंडिया
- (c) बैंक ऑफ बड़ौदा
- (d) केनरा बैंक
- (e) पंजाब नेशनल बैंक

Q182. केंद्रीय बजट 2020 के अनुसार, डिपॉजिट इश्योरेंस एंड क्रेडिट गारंटी कॉरपोरेशन (DICGC) के तहत प्रति जमाकर्ता अनुसूचित वाणिज्यिक बैंकों में कितनी राशि का बीमा किया जाएगा?

- (a) 7.5 लाख रु
- (b) 2.5 लाख रु
- (c) 5 लाख रु
- (d) 3 लाख रु
- (e) 2 लाख रु

Q183. भारत वन स्थिति रिपोर्ट 2019 के अनुसार, किस राज्य ने देश में वन क्षेत्र में अधिकतम वृद्धि के लिए पहला स्थान हासिल किया?

- (a) गुजरात
- (b) हरियाणा
- (c) मध्य प्रदेश
- (d) कर्नाटक
- (e) आंध्र प्रदेश

Q184. प्रधान मंत्री फासल बीमा योजना (PMFBY) के वेब पोर्टल के साथ अपने भूमि रिकॉर्ड को एकीकृत करने वाला देश का पहला राज्य कौन सा है?

- (a) पश्चिम बंगाल
- (b) आंध्र प्रदेश
- (c) महाराष्ट्र
- (d) राजस्थान
- (e) तमिलनाडु

Q185. 'टिफिन: ऑथेंटिक रेसिपीज़ सेलिब्रेटिंग इंडियाज़ रीजनल क्यूज़ीन' पुस्तक के कवर को डिजाइन करने के लिए अपनी तरह का पहले पुरस्कार ऑक्सफोर्ड बुकस्टोर बुक कवर पुरस्कार 2020 से किसे सम्मानित किया गया था?

- (a) स्नेहा पामनेजा
- (b) अक्षर पाठक
- (c) प्रियंका शर्मा
- (d) अनुष्का चोपड़ा
- (e) मोनिका अरोड़ा

Q186. सैंडबॉक्स प्रोजेक्ट के तहत किस बीमा कंपनी ने अपने स्वास्थ्य और मोटर पोर्टफोलियो में 5 अभिनव अनुप्रयोगों और कार्यक्रमों के लिए बीमा विनियामक और विकास प्राधिकरण (IRDAI) की मंजूरी प्राप्त की है?

- (a) एचडीएफसी इआरजीओ
- (b) पीएनबी मेटलाइफ
- (c) आईसीआईसीआई लोम्बार्ड
- (d) एसबीआई लाइफ
- (e) इनमें से कोई नहीं



Q187. भारतीय-जापान समुद्री अफेयर्स के संवाद का 5वां राउंड किस शहर में आयोजित किया गया था?

- (a) टोक्यो
- (b) ओसाका
- (c) चेन्नई
- (d) नई दिल्ली
- (e) मुंबई

Q188. किस बैंक ने बैंकिंग धोखाधड़ी को रोकने और सुरक्षित बैंकिंग प्रदान करने के लिए 1 जनवरी 2020 से 8 AM से 8 PM के दौरान 10,000 रुपये से ऊपर की निकासी को ओटीपी (वन-टाइम-पासवर्ड) आधारित एटीएम (ऑटोमेटेड टेलर मशीन) बना दिया है?

- (a) पीएनबी बैंक
- (b) आईसीआईसीआई बैंक
- (c) केनरा बैंक
- (d) एसबीआई बैंक
- (e) इंडियन बैंक

Q189. ट्रांसजेंडर समुदाय के लोगों के लिए विशेष रूप से कक्षा 1 से लेकर पोस्ट ग्रेजुएशन तक भारत का पहला विश्वविद्यालय किस स्थान पर खोला जाएगा?


- (a) कुशीनगर, उत्तर प्रदेश
- (b) सूरत, गुजरात
- (c) मुंबई, महाराष्ट्र
- (d) अंबाला, हरियाणा
- (e) चेन्नई, तमिलनाडु

Q190. डोपिंग परीक्षण में नाकाम रहने के कारण राष्ट्रीय एंटी डोपिंग एजेंसी (नाडा) द्वारा तत्काल प्रभाव से एक वर्ष के लिए प्रतिबंधित किए गए बॉक्सिंग खिलाड़ी का नाम क्या है?

- (a) विजेन्द्र सिंह
- (b) शिव थापा
- (c) सुमित सांगवान
- (d) हवा सिंह
- (e) देवेन्द्रो सिंह

Q191. जागरूकता फैलाने और पूरी दुनिया में आर्द्रभूमि के संरक्षण के लिए किस दिन को "विश्व वेटलैंड्स दिवस" के रूप में मनाया जाता है।

- (a) 2 फरवरी
- (b) 31 जनवरी
- (c) 19 अक्टूबर
- (d) 17 नवंबर
- (e) 14 जुलाई



Q192. हाल ही में, जसवंत सिंह कंवल का निधन हो गया। वह किस क्षेत्र से संबंधित थे?

- (a) अभिनय
- (b) राजनीति
- (c) लेखक
- (d) खेल
- (e) बैंकर

Q193. "द हाउस ऑफ इस्लाम: ए ग्लोबल हिस्ट्री" पुस्तक किस लेखक द्वारा लिखी गई है?

- (a) एड हुसैन
- (b) अयान हिरसी अली
- (c) माजिद नवाज
- (d) अब्दुल्ला क्विलियम
- (e) इनमें से कोई नहीं

Q194. नैरोबी _____ की राजधानी है।

- (a) इथियोपिया
- (b) केन्या
- (c) सोमालिया
- (d) सूडान
- (e) तंजानिया

Q195. कोटा राजस्थान के उत्तरी भारतीय राज्य के दक्षिण-पूर्व में स्थित एक शहर है और किस नदी के तट पर स्थित है?

- (a) चंबल नदी
- (b) गंगा नदी
- (c) यमुना नदी
- (d) काली नदी
- (e) इनमें से कोई नहीं

Q196. प्रधानमंत्री नरेंद्र मोदी को गुजरात में नर्मदा नदी पर विश्व का दूसरा सबसे बड़ा बांध लॉन्च किया गया था। इस बांध को _____ नाम दिया गया है।

- (a) मानसरोवर बांध
- (b) रिहंद बांध
- (c) सरदार सरोवर बांध
- (d) कोल बांध
- (e) किशाऊ बांध



Q197. कर्मा नृत्य किस राज्य का लोकप्रिय नृत्य रूप है?

- (a) उत्तर प्रदेश
- (b) केरल
- (c) झारखंड
- (d) असम
- (e) इनमें से कोई नहीं

Q198. पट्टडक्कल नृत्य महोत्सव किस राज्य में मनाया जाता है?

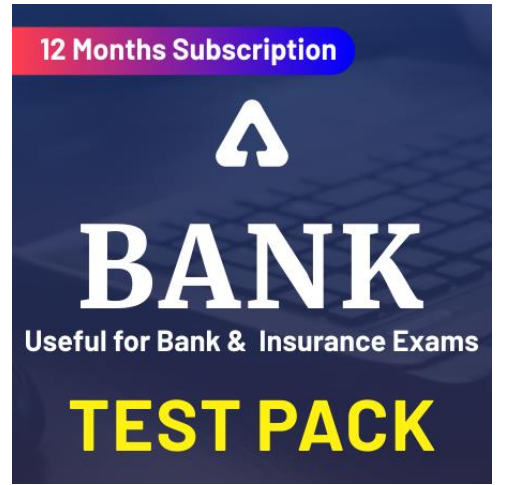
- (a) ओडिशा
- (b) आंध्र प्रदेश
- (c) कर्नाटक
- (d) तेलंगाना
- (e) इनमें से कोई नहीं

Q199. भारत में एटीएम का परिचय देने वाले पहले बैंक का नाम बताइए?

- (a) एचएसबीसी
- (b) आईसीआईसीआई
- (c) एस.बी.आई.
- (d) एच.डी.एफ.सी.
- (e) इनमें से कोई नहीं

Q200. बोरी वन्यजीव अभयारण्य (BWS) किस राज्य में स्थित है?

- (a) गुजरात
- (b) मध्य प्रदेश
- (c) असम
- (d) केरल
- (e) तमिलनाडु



BOOKS



Visit: publications.adda247.com & store.adda247.com
 For any information, mail us at publications@adda247.com