

TOPIC: Puzzle and Miscellaneous
Time: 10min
Paper-Maker Monika Awasthi

Directions (1-5): जानकारी का ध्यानपूर्वक अध्ययन करें और नीचे दिए गए प्रश्नों के उत्तर दें
आठ व्यक्ति अर्थात् A, B, C, D, E, F, G और H एक वर्गाकार मेज पर बैठे हैं। उनमें से चार कोने पर बैठते हैं और अंदर की ओर उन्मुख हैं। शेष चार भुजा के मध्य में बाहर की ओर उन्मुख होकर बैठे हैं। D, A के दाएं ओर से दूसरे स्थान पर बैठा है। D और F के बीच दो व्यक्ति बैठे हैं। G, D की ओर उन्मुख नहीं है। H, F के दाएं से तीसरे स्थान पर बैठा है। B, C के ठीक विपरीत बैठा है। E, B के दाएं से दूसरे स्थान पर बैठा है।

Q1. निम्नलिखित में से कौन-सा व्यक्ति G के दाएं से दूसरे स्थान पर बैठा है?

- (a) H
- (b) A
- (c) C
- (d) E
- (e) G

L1Difficulty 1
QTags Puzzle

Q2. निम्नलिखित में से कौन-सा व्यक्ति C के दाएं से तीसरे स्थान पर बैठा है?

- (a) G
- (b) A
- (c) F
- (d) D
- (e) H

L1Difficulty 1
QTags Puzzle

Q3. A के बाएं से गिनने पर A और D के बीच कितने व्यक्ति बैठे हैं?

- (a) एक
- (b) दो
- (c) तीन
- (d) पांच
- (e) चार

L1Difficulty 1
QTags Puzzle

Q4. E के सन्दर्भ में निम्नलिखित में से कौन सा कथन सही है?

- (a) E, B के ठीक दाएं बैठा है
- (b) E, B के बाएं से दूसरे स्थान पर बैठा है
- (c) कोई सत्य नहीं है
- (d) E एक कोने पर बैठा है
- (e) E बाहर की ओर उन्मुख है

L1Difficulty 1
QTags Puzzle

Q5. निम्नलिखित पांच में से चार एक निश्चित प्रकार से एक समूह के आधार पर एक समान हैं, इनमें से कौन-सा उस समूह से सम्बंधित नहीं है?

- (a) A-F
- (b) B-H
- (c) C-A
- (d) D-E
- (e) G-A

L1Difficulty 1
QTags Puzzle

Direction (6-8): नीचे दिए गए प्रत्येक प्रश्न में कुछ कथनों के बाद दो निष्कर्ष दिए गए हैं। आपको दिए गए कथनों को सत्य मानना है, भले ही वे सर्वज्ञात तथ्यों से भिन्न प्रतीत होते हों। सभी निष्कर्ष का अध्ययन कीजिए और सामान्यतः ज्ञात तथ्यों की उपेक्षा करते हुए निर्णय करें कि दिए गए कथनों में से कौन सा निष्कर्ष तार्किक रूप से दिए गए कथनों का अनुसरण करता है

- (a) यदि केवल निष्कर्ष I अनुसरण करता है .
- (b) यदि केवल निष्कर्ष II अनुसरण करता है
- (c) यदि या तो निष्कर्ष I या II अनुसरण करता है.
- (d) यदि न तो निष्कर्ष I न ही II अनुसरण करता है
- (e) यदि दोनों निष्कर्ष I और II अनुसरण करता है

Q6. कथन: केवल कुछ पबजी गेम हैं

सभी गेम अमेजिंग हैं

निष्कर्ष I: सभी गेम के पबजी होने की सम्भावना है

II: सभी पबजी अमेजिंग हैं

L1Difficulty 1
QTags Syllogism

Q7. **कथन:** केवल बॉल एप्पल हैं
कोई बॉल कैट नहीं है
केवल कुछ कैट डॉग्स हैं

निष्कर्ष: I: कुछ एप्पल डॉग्स हो सकते हैं
II: सभी डॉग्स बॉल हो सकते हैं

L1Difficulty 1
QTags Syllogism

Q8. **कथन:** केवल कुछ सिल्वर गोल्ड हैं
सभी गोल्ड कार हैं
कोई गोल्ड मेटल नहीं है

निष्कर्ष: I: कुछ कार मेटल नहीं है
II: कुछ मेटल कार हो सकते हैं

L1Difficulty 1
QTags Syllogism

Directions (9-11): **निम्नलिखित जानकारी का ध्यानपूर्वक अध्ययन कीजिए और नीचे दिए गए प्रश्नों के उत्तर दीजिए।**

दस व्यक्ति अर्थात् : M, N, O, P, Q, R, S, T, U और V बेंच में बैठे हैं और दक्षिण दिशा की ओर उन्मुख हैं। M और T एक साथ बैठे हैं लेकिन दोनों किसी भी अंतिम सिरे पर नहीं बैठे हैं। Q और V के बीच में 4 व्यक्ति बैठे हैं। Q के बायें ओर से केवल दो व्यक्ति बैठे हैं। O, U के ठीक दायें बैठा है। P, T के बायें से दूसरे स्थान पर बैठा है और S, P का पड़ोसी है। U और N के बीच तीन व्यक्ति हैं, N जो बेंच के बायें छोर पर नहीं बैठा है।

Q9. **निम्नलिखित में से कौन Q के बायें से दूसरे स्थान पर बैठा है?**

- (a) R
- (b) M
- (c) S
- (d) N
- (e) इनमें से कोई नहीं

L1Difficulty 1
QTags Puzzle

Q10. **U और M के बीच में कितने व्यक्ति बैठे हैं?**

- (a) चार
- (b) तीन

- (c) दो
 - (d) एक
 - (e) कोई नहीं
- L1Difficulty 1
QTags Puzzle

Q11. निम्नलिखित में से कौन अंतिम दायें सिरे पर बैठा है?

- (a) P
 - (b) N
 - (c) S
 - (d) T
 - (e) V
- L1Difficulty 1
QTags Puzzle

Q12. यदि शब्द Reasonable के सभी वर्णों को बाएं से दाएं ओर वर्णमाला क्रम में इस तरह से व्यवस्थित किया जाता है कि सभी स्वरों को पहले और इसके बाद व्यंजन को व्यवस्थित किया जाता है, तो व्यवस्था के बाद, O और S के बीच कितने वर्ण हैं?

- (a) दो
 - (b) एक
 - (c) कोई नहीं
 - (d) तीन
 - (e) चार
- L1Difficulty 1
QTags Reasoning

Q13. यदि संख्या 639429687 में, पांच से कम प्रत्येक अंक में 1 जोड़ा जाता है और पांच से अधिक प्रत्येक अंक से 1 घटाया जाता है तो इस प्रकार गठित संख्या में कितने अंकों का दोहराव होगा?

- (a) दो
 - (b) एक
 - (c) कोई नहीं
 - (d) तीन
 - (e) चार
- L1Difficulty 1
QTags Reasoning

Q14. प्रश्नवाचक चिह्न (?) के स्थान पर निम्नलिखित में से कौन-सा तत्व आना चाहिए?

DF8 HJ12 LN16 ?

- (a) PR19
- (b) PR18
- (c) PR21
- (d) PR22
- (e) None of these

L1Difficulty 1

QTags Reasoning

Q15. शब्द 'Perspective' में ऐसे कितने वर्ण युग्म हैं, जिनमें से प्रत्येक के बीच उतने ही वर्ण हैं जितने अंग्रेजी वर्णमाला में उनके बीच होते हैं?

- (a) दो
- (b) एक
- (c) चार
- (d) चार से अधिक
- (e) तीन

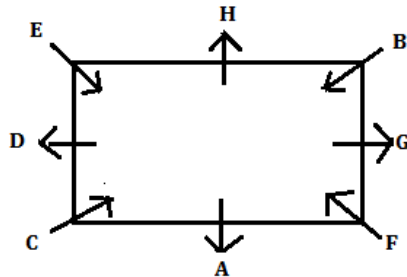
L1Difficulty 1

QTags Reasoning

Solutions

Solutions (1-5):

Sol.



S1. Ans(b)

S2. Ans(a)

S3. Ans(d)

S4. Ans(d)

S5. Ans(e)

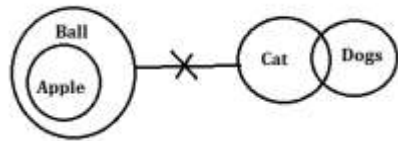
Solutions (6-8):

S6. Ans(a)



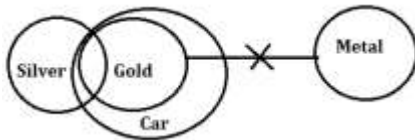
Sol.

S7. Ans(d)



Sol.

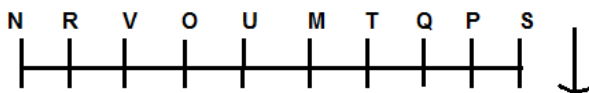
S8. Ans(e)



Sol.

Solutions (9-11):

Sol.



S9. Ans.(c)

S10. Ans.(e)

S11. Ans.(b)

S12. Ans(e)

Sol. After arrangement: **AAEEOBLNRS**

S13. Ans(a)

S14. Ans(e)

Sol. **PR20**

S15. Ans(d)

Sol. **PR, PS, RS, PR, TV**