

BMC CLerk

**Previous Year Paper
11 Dec, 2024 Shift 1**

Adda247



Brihanmumbai Municipal Corporation /
बृहन्मुंबई महानगरपालिका

Participant ID	
Participant Name	
Test Center Name	
Test Date	11/12/2024
Test Time	9:00 AM - 11:00 AM
Subject	Executive Assistant Clerk
Candidate Application Photo	
Candidate Registration Photo	

Section : Marathi language & Grammar1

Q.1 'तू मला वाचवलेस.' वाक्यातील प्रयोग ओळखा.

- Ans
- 1. भावकर्तरी
 - 2. कर्तृ - कर्म - संकर
 - 3. कर्म - भाव - संकर
 - 4. कर्तृ- भाव - संकर

Question Type : MCQ

Question ID : 6306801138803

Option 1 ID : 6306804475362

Option 2 ID : 6306804475363

Option 3 ID : 6306804475360

Option 4 ID : 6306804475361

Status : Answered


Chosen Option : 3




ALL EXAMS, ONE SUBSCRIPTION


 **Test. Analyze. Improve. Repeat.**

 **Don't just *prepare*. *Perform*.**
Test Prime — built only for mock tests. 

 **1,50,000+**
Mock Tests

 **25,000+**
Previous Year Papers

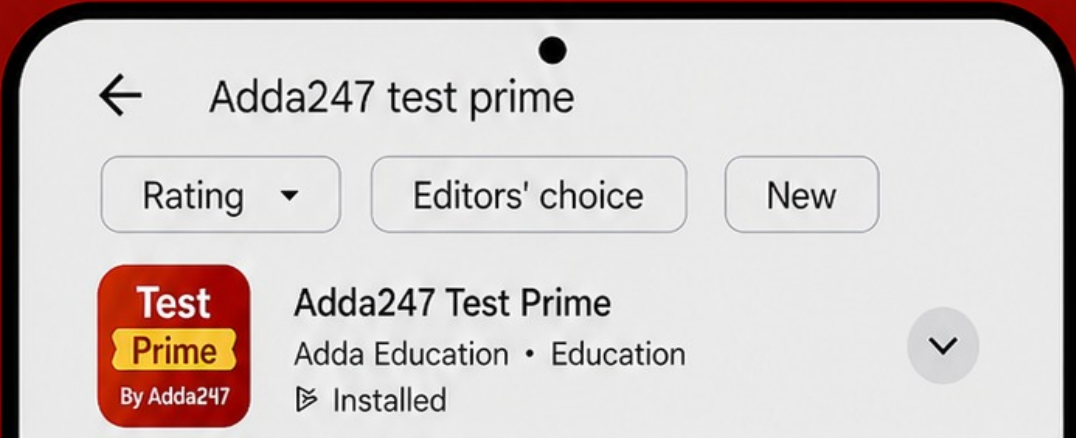
 **800+**
Exam Covered

 **500% Refund**
on Selection

 **5 lakh+** Free Quizzes |  **Daily** Free PDFs |  **Job Alerts** Stay Updated

- Multilingual
- Detailed Solution
- Strong and Weak Areas

 **All India Rankings**
Compete with lakhs. Rank. Improve. Repeat. 



»»» DOWNLOAD THE APP «««

Comprehension:

दिलेला उतारा काळजीपूर्वक वाचून खालील प्रश्नांची उत्तरे सोडवा

माझ्या पाऊलवाटा अजून जगाला अज्ञात आहेत, त्यांचे नकाशे अजून कोणीही काढलेले नाहीत किंवा शालेय भूगोलाने आपले डोळे अजून या वाटांवर वटारलेले नाहीत. त्यांचे जीवन अजूनही अगदी खाजगी आहे, आणि म्हणूनच माझे मन या पाऊलवाटांशी विशेष सलगी करते. त्यांच्या आठवणी मनामध्ये रेंगाळत राहतात, त्या पुनः पुन्हा चघळण्यात एक चोरडा आनंद होतो. कारण पाऊलवाटेने चालणारा मनुष्य सृष्टीच्या शयनगृहातच डोकावीत असतो! तिथे ऐकू येणारी कुजबूज मौनमोकळी असते, शिवाय प्रत्येक बाटेला एक स्वतंत्र व्यक्तित्व असते. तिच्या हुलकावण्या, तिचे चढउतार, तिचे आळोखेपिळोखे, तिचा नोकशोक ही सर्व स्वभावाशी सुसंगत वाटतात. या पाऊलवाटांच्या विविध ढंगांमध्ये अष्टनायिकांचे वैचित्र्य आढळते. त्यांच्यामध्ये डोंगरावर कोपर टेकून उभी राहणारी खड्या चढावाची मानिनी असते; उत्तुंग पहाडाशी भांडण करून उलटी फिरणारी खंडिता असते, गर्द व ओथंबलेल्या झाडीतून लपतछपत पुढे सरकणारी अभिसारिका असते आणि पहाटेच्या दवाने मंदाबलेली विझलेल्या ओठांची स्वाधीनपतिकाही असते. पण या सर्व नायिका सडख्याच्या कातळावर पोहोचल्या की एकदम बिरक्त बनतात। जणू काय आपण त्या गावच्याच नव्हे असा आव आणतात. हा त्यांचा साळसूदपणा मला बिलकूल आवडत नाही !

माझ्या जुन्या आठवणी निराव्याच पाऊलवाटांना बिलगून बसलेल्या आहेत. पुष्कळ जुनी माणसे अजूनही त्या पाऊलवाटांवरून चालत असावी असे वाटू लागते. आपल्या पुष्कळशानातेवाड्यांची घरे हे त्या पाऊलवाटांनाच फुटलेले डोळे, अशी चमत्कारिक कल्पना मनामध्ये चमकून जाते, पण पुन्हा जरा वेळाने त्या पाऊलवाटा तेवढ्या खऱ्या वाटतात आणि त्यांची दोन्ही टोके हळूहळू पुसट होत जातात.

SubQuestion No : 2

Q.2 प्रत्येक वाटेला काय असते असे लेखक समजतो.

- Ans**
- 1. दशदिशा
 - 2. वरीलपैकी सर्व
 - 3. दिशा
 - 4. स्वतंत्र व्यक्तित्त्व

Question Type : **MCQ**

Question ID : **6306801138381**

Option 1 ID : **6306804473737**

Option 2 ID : **6306804473739**

Option 3 ID : **6306804473736**

Option 4 ID : **6306804473738**

Status : **Answered**

Chosen Option : **4**

Comprehension:

दिलेला उतारा काळजीपूर्वक वाचून खालील प्रश्नांची उत्तरे सोडवा

माझ्या पाऊलवाटा अजून जगाला अज्ञात आहेत, त्यांचे नकाशे अजून कोणीही काढलेले नाहीत किंवा शालेय भूगोलाने आपले डोळे अजून या वाटांवर वटारलेले नाहीत. त्यांचे जीवन अजूनही अगदी खाजगी आहे, आणि म्हणूनच माझे मन या पाऊलवाटांशी विशेष सलगी करते. त्यांच्या आठवणी मनामध्ये रेंगाळत राहतात, त्या पुनः पुन्हा चघळण्यात एक चोरडा आनंद होतो. कारण पाऊलवाटेने चालणारा मनुष्य सृष्टीच्या शयनगृहातच डोकावीत असतो! तिथे ऐकू येणारी कुजबूज मौनमोकळी असते, शिवाय प्रत्येक बाटेला एक स्वतंत्र व्यक्तित्व असते. तिच्या हुलकावण्या, तिचे चढउतार, तिचे आळोखेपिळोखे, तिचा नोकशोक ही सर्व स्वभावाशी सुसंगत वाटतात. या पाऊलवाटांच्या विविध ढंगांमध्ये अष्टनायिकांचे वैचित्र्य आढळते. त्यांच्यामध्ये डोंगरावर कोपर टेकून उभी राहणारी खड्या चढावाची मानिनी असते; उंचा पहाडाशी भांडण करून उलटी फिरणारी खंडिता असते, गर्द व ओथंबलेल्या झाडीतून लपतछपत पुढे सरकणारी अभिसारिका असते आणि पहाटेच्या दवाने मंदाबलेली विझलेल्या ओठांची स्वाधीनपतिकाही असते. पण या सर्व नायिका सड्खाच्या कातळावर पोहोचल्या की एकदम बिरक्त बनतात। जणू काय आपण त्या गावच्याच नव्हे असा आव आणतात. हा त्यांचा साळसूदपणा मला बिलकूल आवडत नाही !

माझ्या जुन्या आठवणी निराव्याच पाऊलवाटांना बिलगून बसलेल्या आहेत. पुष्कळ जुनी माणसे अजूनही त्या पाऊलवाटांवरून चालत असावी असे वाटू लागते. आपल्या पुष्कळशानातेवाड्यांची घरे हे त्या पाऊलवाटांनाच फुटलेले डोळे, अशी चमत्कारिक कल्पना मनामध्ये चमकून जाते, पण पुन्हा जरा वेळाने त्या पाऊलवाटा तेवढ्या खऱ्या वाटतात आणि त्यांची दोन्ही टोके हळूहळू पुसट होत जातात.

SubQuestion No : 3

Q.3 सृष्टीची कुजबूज कशी आहे असे लेखकाला वाटते

- Ans**
- 1. मौनमोकळी
 - 2. ढगाआड लेपलेली
 - 3. दशदिशांना घुमणारी
 - 4. अष्टनायिकांप्रमाणे

Question Type : **MCQ**

Question ID : **6306801138383**

Option 1 ID : **6306804473745**

Option 2 ID : **6306804473746**

Option 3 ID : **6306804473744**

Option 4 ID : **6306804473747**

Status : **Answered**

Chosen Option : **3**

Comprehension:

दिलेला उतारा काळजीपूर्वक वाचून खालील प्रश्नांची उत्तरे सोडवा

माझ्या पाऊलवाटा अजून जगाला अज्ञात आहेत, त्यांचे नकाशे अजून कोणीही काढलेले नाहीत किंवा शालेय भूगोलाने आपले डोळे अजून या वाटांवर वटारलेले नाहीत. त्यांचे जीवन अजूनही अगदी खाजगी आहे, आणि म्हणूनच माझे मन या पाऊलवाटांशी विशेष सलगी करते. त्यांच्या आठवणी मनामध्ये रेंगाळत राहतात, त्या पुनः पुन्हा चघळण्यात एक चोरडा आनंद होतो. कारण पाऊलवाटेने चालणारा मनुष्य सृष्टीच्या शयनगृहातच डोकावीत असतो! तिथे ऐकू येणारी कुजबूज मौनमोकळी असते, शिवाय प्रत्येक बाटेला एक स्वतंत्र व्यक्तित्व असते. तिच्या हुलकावण्या, तिचे चढउतार, तिचे आळोखेपिळोखे, तिचा नोकशोक ही सर्व स्वभावाशी सुसंगत वाटतात. या पाऊलवाटांच्या विविध ढंगांमध्ये अष्टनायिकांचे वैचित्र्य आढळते. त्यांच्यामध्ये डोंगरावर कोपर टेकून उभी राहणारी खड्या चढावाची मानिनी असते; उचुंग पहाडाशी भांडण करून उलटी फिरणारी खंडिता असते, गर्द व ओथंबलेल्या झाडीतून लपतछपत पुढे सरकणारी अभिसारिका असते आणि पहाटेच्या दवाने मंदाबलेली विझलेल्या ओठांची स्वाधीनपतिकाही असते. पण या सर्व नायिका सड्खाच्या कातळावर पोहोचल्या की एकदम बिरक्त बनतात। जणू काय आपण त्या गावच्याच नव्हे असा आव आणतात. हा त्यांचा साळसूदपणा मला बिलकूल आवडत नाही!

माझ्या जुन्या आठवणी निराव्याच पाऊलवाटांना बिलगून बसलेल्या आहेत. पुष्कळ जुनी माणसे अजूनही त्या पाऊलवाटांवरून चालत असावी असे वाटू लागते. आपल्या पुष्कळशानातेवाड्यांची घरे हे त्या पाऊलवाटांनाच फुटलेले डोळे, अशी चमत्कारिक कल्पना मनामध्ये चमकून जाते, पण पुन्हा जरा वेळाने त्या पाऊलवाटा तेवढ्या खऱ्या वाटतात आणि त्यांची दोन्ही टोके हळूहळू पुसट होत जातात.

SubQuestion No : 4

Q.4 लेखकाच्या पाऊलवाटा जगासाठी कशा आहेत.

- Ans**
- 1. मौन मोकळ्या
 - 2. ज्ञात
 - 3. प्रकाशित
 - 4. अज्ञात

Question Type : MCQ

Question ID : 6306801138382

Option 1 ID : 6306804473741

Option 2 ID : 6306804473742

Option 3 ID : 6306804473740

Option 4 ID : 6306804473743

Status : Answered

Chosen Option : 4

Comprehension:

दिलेला उतारा काळजीपूर्वक वाचून खालील प्रश्नांची उत्तरे सोडवा

माझ्या पाऊलवाटा अजून जगाला अज्ञात आहेत, त्यांचे नकाशे अजून कोणीही काढलेले नाहीत किंवा शालेय भूगोलाने आपले डोळे अजून या वाटांवर वटारलेले नाहीत. त्यांचे जीवन अजूनही अगदी खाजगी आहे, आणि म्हणूनच माझे मन या पाऊलवाटांशी विशेष सलगी करते. त्यांच्या आठवणी मनामध्ये रेंगाळत राहतात, त्या पुनः पुन्हा चघळण्यात एक चोरडा आनंद होतो. कारण पाऊलवाटेने चालणारा मनुष्य सृष्टीच्या शयनगृहातच डोकावीत असतो! तिथे ऐकू येणारी कुजबूज मौनमोकळी असते, शिवाय प्रत्येक बाटेला एक स्वतंत्र व्यक्तित्व असते. तिच्या हुलकावण्या, तिचे चढउतार, तिचे आळोखेपिळोखे, तिचा नोकशोक ही सर्व स्वभावाशी सुसंगत वाटतात. या पाऊलवाटांच्या विविध ढंगांमध्ये अष्टनायिकांचे वैचित्र्य आढळते. त्यांच्यामध्ये डोंगरावर कोपर टेकून उभी राहणारी खड्या चढावाची मानिनी असते; उत्तुंग पहाडाशी भांडण करून उलटी फिरणारी खंडिता असते, गर्द व ओथंबलेल्या झाडीतून लपतछपत पुढे सरकणारी अभिसारिका असते आणि पहाटेच्या दवाने मंदाबलेली विझलेल्या ओठांची स्वाधीनपतिकाही असते. पण या सर्व नायिका सड्खाच्या कातळावर पोहोचल्या की एकदम बिरक्त बनतात। जणू काय आपण त्या गावच्याच नव्हे असा आव आणतात. हा त्यांचा साळसूदपणा मला बिलकूल आवडत नाही !

माझ्या जुन्या आठवणी निराव्याच पाऊलवाटांना बिलगून बसलेल्या आहेत. पुष्कळ जुनी माणसे अजूनही त्या पाऊलवाटांवरून चालत असावी असे वाटू लागते. आपल्या पुष्कळशानातेवाड्यांची घरे हे त्या पाऊलवाटांनाच फुटलेले डोळे, अशी चमत्कारिक कल्पना मनामध्ये चमकून जाते, पण पुन्हा जरा वेळाने त्या पाऊलवाटा तेवढ्या खऱ्या वाटतात आणि त्यांची दोन्ही टोके हळूहळू पुसट होत जातात.

SubQuestion No : 5

Q.5 कशाचे नकाशे अजून तयार नाहीत असे लेखकाला वाटते.

- Ans**
- 1. शालेय भूगोलाचे
 - 2. पाऊलवाटा
 - 3. वरील सर्व
 - 4. डोंगरकपारीचे

Question Type : MCQ

Question ID : 6306801138379

Option 1 ID : 6306804473728

Option 2 ID : 6306804473729

Option 3 ID : 6306804473731

Option 4 ID : 6306804473730

Status : Answered

Chosen Option : 2

Comprehension:

दिलेला उतारा काळजीपूर्वक वाचून खालील प्रश्नांची उत्तरे सोडवा

माझ्या पाऊलवाटा अजून जगाला अज्ञात आहेत, त्यांचे नकाशे अजून कोणीही काढलेले नाहीत किंवा शालेय भूगोलाने आपले डोळे अजून या वाटांवर वटारलेले नाहीत. त्यांचे जीवन अजूनही अगदी खाजगी आहे, आणि म्हणूनच माझे मन या पाऊलवाटांशी विशेष सलगी करते. त्यांच्या आठवणी मनामध्ये रेंगाळत राहतात, त्या पुनः पुन्हा चघळण्यात एक चोरडा आनंद होतो. कारण पाऊलवाटेने चालणारा मनुष्य सृष्टीच्या शयनगृहातच डोकावीत असतो! तिथे ऐकू येणारी कुजबूज मौनमोकळी असते, शिवाय प्रत्येक बाटेला एक स्वतंत्र व्यक्तित्व असते. तिच्या हुलकावण्या, तिचे चढउतार, तिचे आळोखेपिळोखे, तिचा नोकशोक ही सर्व स्वभावाशी सुसंगत वाटतात. या पाऊलवाटांच्या विविध ढगांमध्ये अष्टनायिकांचे वैचित्र्य आढळते. त्यांच्यामध्ये डोंगराबर कोपर टेकून उभी राहणारी खड्या चढावाची मानिनी असते; उत्तुंग पहाडाशी भांडण करून उलटी फिरणारी खंडिता असते, गर्द व ओथंबलेल्या झाडीतून लपतछपत पुढे सरकणारी अभिसारिका असते आणि पहाटेच्या दवाने मंदाबलेली विझलेल्या ओठांची स्वाधीनपतिकाही असते. पण या सर्व नायिका सड्खाच्या कातळावर पोहोचल्या की एकदम बिरक्त बनतात। जणू काय आपण त्या गावच्याच नव्हे असा आव आणतात. हा त्यांचा साळसूदपणा मला बिलकूल आवडत नाही!

माझ्या जुन्या आठवणी निराव्याच पाऊलवाटांना बिलगून बसलेल्या आहेत. पुष्कळ जुनी माणसे अजूनही त्या पाऊलवाटांवरून चालत असावी असे वाटू लागते. आपल्या पुष्कळशानातेवाड्यांची घरे हे त्या पाऊलवाटांनाच फुटलेले डोळे, अशी चमत्कारिक कल्पना मनामध्ये चमकून जाते, पण पुन्हा जरा वेळाने त्या पाऊलवाटा तेवढ्या खऱ्या वाटतात आणि त्यांची दोन्ही टोके हळूहळू पुसट होत जातात.

SubQuestion No : 6

Q.6 ढगांमध्ये कोणते वैचित्र्य आढळते.

- Ans**
- 1. दाही कोनांचे
 - 2. दिग्दर्शनाचे
 - 3. दशदिशांचे
 - 4. अष्टनायिकांचे

Question Type : **MCQ**

Question ID : **6306801138380**

Option 1 ID : **6306804473734**

Option 2 ID : **6306804473735**

Option 3 ID : **6306804473733**

Option 4 ID : **6306804473732**

Status : **Not Answered**

Chosen Option : --

Section : **English language & Grammar1**

Q.1 Complete the sentence by choosing the correct adjective.

The _____ sunset painted the sky in vibrant hues of orange and pink.

- Ans**
- 1. elusive
 - 2. gloomy
 - 3. magnificent
 - 4. mundane

Question Type : **MCQ**

Question ID : **6306801139491**

Option 1 ID : **6306804478008**

Option 2 ID : **6306804478009**

Option 3 ID : **6306804478010**

Option 4 ID : **6306804478011**

Status : **Answered**

Chosen Option : **2**

Q.2 Fill in the blank with the future perfect tense:

They _____ (complete) the construction of the new building, by next month.

- Ans
- 1. will have completed
 - 2. will be completing
 - 3. will complete
 - 4. are completing

Question Type : MCQ
Question ID : 6306801139334
Option 1 ID : 6306804477405
Option 2 ID : 6306804477404
Option 3 ID : 6306804477406
Option 4 ID : 6306804477407
Status : Answered
Chosen Option : 1

Q.3 Choose the sentence with the appropriate present tense usage:

- Ans
- 1. He will be explaining the details of the plan during the meeting.
 - 2. The children are playing in the park while the sun sets.
 - 3. Technology evolves rapidly, providing new opportunities.
 - 4. The company has launched its new product at the trade show yesterday.

Question Type : MCQ
Question ID : 6306801139495
Option 1 ID : 6306804478025
Option 2 ID : 6306804478026
Option 3 ID : 6306804478024
Option 4 ID : 6306804478027
Status : Answered
Chosen Option : 3

Q.4 Choose the sentence that does not contain a spelling error:

- Ans
- 1. The athlet performed exceptionally well in the competition.
 - 2. We experienced an unforgetable moment during the concert.
 - 3. She received a prestigious award for her artistic achievements.
 - 4. The restaraunt served a variety of international cuisines.

Question Type : MCQ
Question ID : 6306801139579
Option 1 ID : 6306804478350
Option 2 ID : 6306804478351
Option 3 ID : 6306804478349
Option 4 ID : 6306804478348
Status : Answered
Chosen Option : 2

Q.5 Fill in the blank with most appropriate option:

At this time next week, I _____ on a beach in Hawaii.

- Ans 1. being
 2. will be
 3. am
 4. will have been

Question Type : MCQ
 Question ID : 6306801139464
 Option 1 ID : 6306804477906
 Option 2 ID : 6306804477905
 Option 3 ID : 6306804477904
 Option 4 ID : 6306804477907
 Status : Answered
 Chosen Option : 2

Q.6 Fill in the blank with the simple future tense:

In a few years, technology _____ (advance) even further.

- Ans 1. advancing
 2. advance
 3. advances
 4. will advance

Question Type : MCQ
 Question ID : 6306801139339
 Option 1 ID : 6306804477426
 Option 2 ID : 6306804477424
 Option 3 ID : 6306804477425
 Option 4 ID : 6306804477427
 Status : Answered
 Chosen Option : 4

Section : General knowledge1

Q.1 _____ ने जानेवारी 2024 मध्ये इंटीग्रेटेड टेस्ट रेंज (ITR) येथे न्यू जनरेशन आकाश (AKASH-NG) क्षेपणास्त्राची यशस्वी चाचणी करून एक मोठा टप्पा गाठला.

- Ans 1. ISRO (भारतीय अंतराळ संशोधन संस्था)
 2. DRDO (संरक्षण संशोधन आणि विकास संघटना)
 3. भारतीय नौदल
 4. FBI (फेडरल ब्युरो ऑफ इन्व्हेस्टिगेशन)

Question Type : MCQ
 Question ID : 6306801140254
 Option 1 ID : 6306804481048
 Option 2 ID : 6306804481049
 Option 3 ID : 6306804481050
 Option 4 ID : 6306804481051
 Status : Answered
 Chosen Option : 2

Q.2 कु. हेमोप्रोवा चुटिया या _____ मधील महिलांपैकी एक आहेत, ज्यांनी कापूस, रेशीम आणि लोकर वापरून पूर्ण पुस्तके बनविण्याच्या तिच्या विणलेल्या कामासाठी पद्मश्री पुरस्कार 2023 जिंकला.

- Ans 1. आंध्रप्रदेश
 2. आसाम
 3. मणिपूर
 4. मेघालय

Question Type : MCQ

Question ID : 6306801140275

Option 1 ID : 6306804481132

Option 2 ID : 6306804481133

Option 3 ID : 6306804481134

Option 4 ID : 6306804481135

Status : Answered

Chosen Option : 3

Q.3 खालील विधानांचा विचार करा:

- A) 'गुजरातचा गरबा' हा युनेस्कोने मानवतेच्या अमूर्त सांस्कृतिक वारशाच्या (ICH) प्रतिनिधिक यादीमध्ये समाविष्ट केला आहे.
 B) या यादीत समाविष्ट होणारा 'गुजरातचा गरबा' हा भारतातील 15वा अमूर्त सांस्कृतिक वारसा घटक बनला आहे.
 C) एक नृत्यप्रकार म्हणून गरबा हा धार्मिक आणि भक्तिमय मुळांमध्ये खोलवर रुजलेला आहे.

- Ans 1. A, B, C ही सर्व सत्य आहेत
 2. केवळ C आणि A सत्य आहेत
 3. केवळ A आणि B सत्य आहेत
 4. केवळ B आणि C सत्य आहेत

Question Type : MCQ

Question ID : 6306801140083

Option 1 ID : 6306804480367

Option 2 ID : 6306804480366

Option 3 ID : 6306804480364

Option 4 ID : 6306804480365

Status : Answered

Chosen Option : 1

Q.4 खालील विधाने विचारात घ्या:

- A) मार्च 2023 मध्ये, मध्य भारत आणि दक्षिण द्वीपकल्पात 1901 पासून अनुक्रमे सर्वाधिक आणि सर्वाधिक 7 व्या क्रमांकाचा पाऊस पडला.
B) एप्रिल 2023 मध्ये, भारतात 30 दिवसांपैकी 27 दिवस गारपीट झाली.

- Ans 1. केवळ A सत्य आहे
 2. A किंवा B दोन्हीपैकी कोणतेही सत्य नाही
 3. A आणि B दोन्ही सत्य आहे
 4. केवळ B सत्य आहे

Question Type : MCQ
Question ID : 6306801139966
Option 1 ID : 6306804479896
Option 2 ID : 6306804479899
Option 3 ID : 6306804479898
Option 4 ID : 6306804479897
Status : Answered
Chosen Option : 1

Q.5 दुरुस्ती उपकर फक्त _____ प्रभागांमधील इमारतींवर लागू आहे.

- Ans 1. मध्यवर्ती
 2. गाव
 3. पश्चिम
 4. शहर

Question Type : MCQ
Question ID : 6306801139730
Option 1 ID : 6306804478951
Option 2 ID : 6306804478949
Option 3 ID : 6306804478950
Option 4 ID : 6306804478948
Status : Answered
Chosen Option : 4

Q.6 महापौर निधीबाबत खालीलपैकी कोणते विधान सत्य आहे?

- Ans 1. याचा उपयोग केवळ मनोरंजनाच्या सुविधांच्या विकासासाठी केला जातो.
 2. कोणत्याही पर्यवेक्षणाशिवाय हे केवळ महापौरांच्या ताब्यात आहे.
 3. त्यांच्या कामकाजात पारदर्शकता नसल्याची टीका होत आहे.
 4. महापौर निधीला देणग्या मिळकत करतून सूट देण्यात आली आहे.

Question Type : MCQ
Question ID : 6306801139860
Option 1 ID : 6306804479470
Option 2 ID : 6306804479468
Option 3 ID : 6306804479469
Option 4 ID : 6306804479471
Status : Answered
Chosen Option : 2

Q.1 दिलेल्या मांडणीमध्ये अशा किती सम संख्या आहेत, ज्यांच्या लगेचच आधी तसेच नंतर एक विषम संख्या आहे?

6 5 8 8 7 4 5 4 6 9 6 1 2 4 8 8 7 8 9 2 5 4 1 4 3 2 1

- Ans
- 1. 6
 - 2. 5
 - 3. 4
 - 4. 7

Question Type : MCQ

Question ID : 6306801143053

Option 1 ID : 6306804492427

Option 2 ID : 6306804492425

Option 3 ID : 6306804492424

Option 4 ID : 6306804492426

Status : Answered

Chosen Option : 4

Q.2 अनु पूर्वेकडे 5 km चालल्यावर डावीकडे वळली आणि 7 km चालली, त्यानंतर ती डावीकडे वळली आणि 5 km गेली. शेवटी ती डावीकडे वळली आणि 8 km चालली. तर ती तिच्या सुरुवातीच्या स्थानापासून किती दूर असेल?

- Ans
- 1. 8 km
 - 2. 15 km
 - 3. 4 km
 - 4. 1km

Question Type : MCQ

Question ID : 6306801143583

Option 1 ID : 6306804494546

Option 2 ID : 6306804494545

Option 3 ID : 6306804494544

Option 4 ID : 6306804494547

Status : Answered

Chosen Option : 4

Q.3 प्रत्येक शब्दातील सर्व वर्णांना एकने वाढवल्यास, अशाप्रकारे तयार झालेल्या किती अक्षर-समूहांत किमान 1 स्वर असेल?

WKJ TGF PBC XYU NQS

- Ans
- 1. 3
 - 2. 5
 - 3. 2
 - 4. 4

Question Type : MCQ

Question ID : 6306801143175

Option 1 ID : 6306804492913

Option 2 ID : 6306804492915

Option 3 ID : 6306804492912

Option 4 ID : 6306804492914

Status : Answered

Chosen Option : 3

Q.4 दिलेले समीकरण संतुलित करण्यासाठी कोणत्या दोन चिन्हांची अदलाबदल करावी लागेल?

$$69 \div 58 + 5 \times 9 - 3 = 26$$

- Ans
- 1. \times आणि $+$
 - 2. \times आणि $+$
 - 3. \times आणि $-$
 - 4. $-$ आणि $+$

Question Type : MCQ

Question ID : 6306801143145

Option 1 ID : 6306804492794

Option 2 ID : 6306804492792

Option 3 ID : 6306804492793

Option 4 ID : 6306804492795

Status : Answered

Chosen Option : 4

Q.5 दिलेले समीकरण संतुलित करण्यासाठी कोणत्या दोन चिन्हांची अदलाबदल केली पाहिजे?

$$63 \div 3 - 14 + 25 \times 239 = 80$$

- Ans
- 1. \times आणि $+$
 - 2. \times आणि $-$
 - 3. \times आणि $+$
 - 4. $-$ आणि $+$

Question Type : MCQ

Question ID : 6306801143345

Option 1 ID : 6306804493594

Option 2 ID : 6306804493593

Option 3 ID : 6306804493592

Option 4 ID : 6306804493595

Status : Answered

Chosen Option : 2

Q.6 जर सर्व संख्या आपापसात उलट्या क्रमाने लिहिल्या गेल्या, तर अशा प्रकारे तयार झालेल्या सर्वात मोठ्या संख्येच्या दशक स्थान अंकाचा आणि सर्वात लहान संख्येच्या एकक स्थानावरील अंक यांचा गुणाकार किती असेल?

$$879\ 546\ 243\ 132\ 987$$

- Ans
- 1. 6
 - 2. 12
 - 3. 14
 - 4. 7

Question Type : MCQ

Question ID : 6306801143519

Option 1 ID : 6306804494291

Option 2 ID : 6306804494289

Option 3 ID : 6306804494288

Option 4 ID : 6306804494290

Status : Answered

Chosen Option : 3

Q.7 मालिकेत अशी किती चिन्हे आहेत, ज्यांच्या लगेच अगोदर एक संख्या आणि लगेच नंतर एक चिन्ह आहे?

5 7 \$ 6 % \$ 8 9 & + 5 4 # ! 5 8 9 0 6 & 6 * 5 %

- Ans
- 1. 1
 - 2. 3
 - 3. 4
 - 4. 2

Question Type : MCQ

Question ID : 6306801143477

Option 1 ID : 6306804494122

Option 2 ID : 6306804494123

Option 3 ID : 6306804494120

Option 4 ID : 6306804494121

Status : Answered

Chosen Option : 2

Section : Marathi language & Grammar2

Q.1 खालीलपैकी 'पुराण कर्मणी' प्रयोगाचे उदाहरण ओळखा.

- Ans
- 1. शिपायाकडून चोर धरला जातो.
 - 2. नळे इंद्राशी असे बोलिजेले.
 - 3. त्याने आंबा खाल्ला.
 - 4. त्याला हा प्रदेश सोडावा लागतो.

Question Type : MCQ

Question ID : 6306801138674

Option 1 ID : 6306804474865

Option 2 ID : 6306804474864

Option 3 ID : 6306804474867

Option 4 ID : 6306804474866

Status : Answered

Chosen Option : 2

Q.2 खालील प्रधान शब्दासाठी दिलेल्या पर्यायातून योग्य समानार्थी शब्द ओळखा.

हळ्या

- Ans
- 1. कावळा
 - 2. पोपट
 - 3. चिमणी
 - 4. कोकीळ

Question Type : MCQ

Question ID : 6306801138522

Option 1 ID : 6306804474281

Option 2 ID : 6306804474283

Option 3 ID : 6306804474280

Option 4 ID : 6306804474282

Status : Answered

Chosen Option : 4

Q.3 पुढीलपैकी कोणता शब्द 'सुवर्ण' या शब्दाचा समानार्थी आहे?

- Ans
- 1. कुंजर
 - 2. कुमुद
 - 3. कांचन
 - 4. कोदंड

Question Type : MCQ

Question ID : 6306801138729

Option 1 ID : 6306804475079

Option 2 ID : 6306804475078

Option 3 ID : 6306804475077

Option 4 ID : 6306804475076

Status : Answered

Chosen Option : 3

Q.4 खालील शब्दाचा अर्थ सांगा.

नतद्रष्ट

- Ans
- 1. म्लानी
 - 2. दुष्ट
 - 3. सरळ
 - 4. निबिड

Question Type : MCQ

Question ID : 6306801138516

Option 1 ID : 6306804474258

Option 2 ID : 6306804474256

Option 3 ID : 6306804474257

Option 4 ID : 6306804474259

Status : Answered

Chosen Option : 1

Q.5 पुढीलपैकी योग्य वाक्यरचना असलेले वाक्य ओळखा.

- Ans
- 1. अनय घरून जेवण गरम डबा दररोज येतो.
 - 2. अनयला दररोज घरून गरम डबा जेवणाचा येतो.
 - 3. अनय दररोज घरून जेवण गरम डबा येतो.
 - 4. अनयला दररोज घरून गरम जेवणाचा डबा येतो.

Question Type : MCQ

Question ID : 6306801138878

Option 1 ID : 6306804475651

Option 2 ID : 6306804475650

Option 3 ID : 6306804475648

Option 4 ID : 6306804475649

Status : Answered

Chosen Option : 2

Q.6 पुढीलपैकी अयोग्य वाक्य ओळखा.

- Ans
- 1. ती सुरी धारदार आहे.
 - 2. पावसाचा धारा कोसळत होता.
 - 3. ते धारानृत्य मी भान हरपून पाहत होते.
 - 4. त्याचे नाक धारदार आहे.

Question Type : MCQ

Question ID : 6306801138905

Option 1 ID : 6306804475754

Option 2 ID : 6306804475755

Option 3 ID : 6306804475752

Option 4 ID : 6306804475753

Status : Answered

Chosen Option : 2

Section : English language & Grammar2

Q.1 Fill in the blank with the most appropriate option.

_____ reaching the springs, the car had to cross one or two riverbeds.

- Ans
- 1. Aside
 - 2. Apart
 - 3. Before
 - 4. Beyond

Question Type : MCQ

Question ID : 6306801138972

Option 1 ID : 6306804476015

Option 2 ID : 6306804476013

Option 3 ID : 6306804476012

Option 4 ID : 6306804476014

Status : Answered

Chosen Option : 3

Comprehension:

Read the passage and answer the following question

The Marvel Cinematic Universe (MCU) stands as a cinematic phenomenon, captivating audiences worldwide with its extraordinary blend of superhero tales and interconnected storytelling. Launched in 2008 with "Iron Man," the MCU has evolved into a vast and intricate tapestry of characters, each contributing to epic narratives that transcend individual films. Iconic superheroes such as Iron Man, Captain America, and Thor have become cultural symbols, while enigmatic teams like the Avengers have saved the universe from formidable threats. The MCU's success lies in its ability to seamlessly weave individual character arcs into a larger narrative, culminating in blockbuster ensemble films like "The Avengers" and "Infinity War." With a combination of compelling storytelling, dynamic characters, and groundbreaking special effects, the Marvel Cinematic Universe continues to shape the landscape of modern cinema, fostering a global community of fans eagerly anticipating each new installment.

SubQuestion No : 2**Q.2 How is the passage structured?**

- Ans
- 1. Descriptive details followed by historical events.
 - 2. Flashbacks to the origins of Marvel superheroes.
 - 3. Comparisons between different superhero franchises.
 - 4. Chronological order from Iron Man to the present.

Question Type : MCQ

Question ID : 6306801139512

Option 1 ID : 6306804478088

Option 2 ID : 6306804478089

Option 3 ID : 6306804478091

Option 4 ID : 6306804478090

Status : Answered

Chosen Option : 3

Comprehension:

Read the passage and answer the following question

The Marvel Cinematic Universe (MCU) stands as a cinematic phenomenon, captivating audiences worldwide with its extraordinary blend of superhero tales and interconnected storytelling. Launched in 2008 with "Iron Man," the MCU has evolved into a vast and intricate tapestry of characters, each contributing to epic narratives that transcend individual films. Iconic superheroes such as Iron Man, Captain America, and Thor have become cultural symbols, while enigmatic teams like the Avengers have saved the universe from formidable threats. The MCU's success lies in its ability to seamlessly weave individual character arcs into a larger narrative, culminating in blockbuster ensemble films like "The Avengers" and "Infinity War." With a combination of compelling storytelling, dynamic characters, and groundbreaking special effects, the Marvel Cinematic Universe continues to shape the landscape of modern cinema, fostering a global community of fans eagerly anticipating each new installment.

SubQuestion No : 3

Q.3 What is the antonym of "intricate" as used in the passage?

- Ans 1. Elaborate
 2. Simple
 3. Complex
 4. Basic

Question Type : MCQ

Question ID : 6306801139514

Option 1 ID : 6306804478097

Option 2 ID : 6306804478096

Option 3 ID : 6306804478098

Option 4 ID : 6306804478099

Status : Answered

Chosen Option : 3

Comprehension:

Read the passage and answer the following question

The Marvel Cinematic Universe (MCU) stands as a cinematic phenomenon, captivating audiences worldwide with its extraordinary blend of superhero tales and interconnected storytelling. Launched in 2008 with "Iron Man," the MCU has evolved into a vast and intricate tapestry of characters, each contributing to epic narratives that transcend individual films. Iconic superheroes such as Iron Man, Captain America, and Thor have become cultural symbols, while enigmatic teams like the Avengers have saved the universe from formidable threats. The MCU's success lies in its ability to seamlessly weave individual character arcs into a larger narrative, culminating in blockbuster ensemble films like "The Avengers" and "Infinity War." With a combination of compelling storytelling, dynamic characters, and groundbreaking special effects, the Marvel Cinematic Universe continues to shape the landscape of modern cinema, fostering a global community of fans eagerly anticipating each new installment.

SubQuestion No : 4

Q.4 What tone does the author convey in the passage?

- Ans**
- 1. Indifferent and detached.
 - 2. Critical and judgmental.
 - 3. Excited and celebratory.
 - 4. Nostalgic and sentimental.

Question Type : **MCQ**

Question ID : **6306801139513**

Option 1 ID : **6306804478095**

Option 2 ID : **6306804478092**

Option 3 ID : **6306804478094**

Option 4 ID : **6306804478093**

Status : **Answered**

Chosen Option : **3**

Comprehension:

Read the passage and answer the following question

The Marvel Cinematic Universe (MCU) stands as a cinematic phenomenon, captivating audiences worldwide with its extraordinary blend of superhero tales and interconnected storytelling. Launched in 2008 with "Iron Man," the MCU has evolved into a vast and intricate tapestry of characters, each contributing to epic narratives that transcend individual films. Iconic superheroes such as Iron Man, Captain America, and Thor have become cultural symbols, while enigmatic teams like the Avengers have saved the universe from formidable threats. The MCU's success lies in its ability to seamlessly weave individual character arcs into a larger narrative, culminating in blockbuster ensemble films like "The Avengers" and "Infinity War." With a combination of compelling storytelling, dynamic characters, and groundbreaking special effects, the Marvel Cinematic Universe continues to shape the landscape of modern cinema, fostering a global community of fans eagerly anticipating each new installment.

SubQuestion No : 5

Q.5 What can be inferred about the Avengers from the passage?

- Ans
- 1. They are new additions to the MCU.
 - 2. They are cultural symbols but not integral to the MCU narratives.
 - 3. They are individual superheroes without connections.
 - 4. They have contributed to saving the universe in MCU films.

Question Type : MCQ

Question ID : 6306801139511

Option 1 ID : 6306804478086

Option 2 ID : 6306804478087

Option 3 ID : 6306804478084

Option 4 ID : 6306804478085

Status : Answered

Chosen Option : 4

Comprehension:

Read the passage and answer the following question

The Marvel Cinematic Universe (MCU) stands as a cinematic phenomenon, captivating audiences worldwide with its extraordinary blend of superhero tales and interconnected storytelling. Launched in 2008 with "Iron Man," the MCU has evolved into a vast and intricate tapestry of characters, each contributing to epic narratives that transcend individual films. Iconic superheroes such as Iron Man, Captain America, and Thor have become cultural symbols, while enigmatic teams like the Avengers have saved the universe from formidable threats. The MCU's success lies in its ability to seamlessly weave individual character arcs into a larger narrative, culminating in blockbuster ensemble films like "The Avengers" and "Infinity War." With a combination of compelling storytelling, dynamic characters, and groundbreaking special effects, the Marvel Cinematic Universe continues to shape the landscape of modern cinema, fostering a global community of fans eagerly anticipating each new installment.

SubQuestion No : 6

Q.6 What title best captures the essence of the passage?

- Ans 1. Blockbuster Ensembles: Marvel's Cinematic Triumph
 2. Cinematic Marvels: A Journey through the MCU
 3. The Global Impact of the MCU
 4. The Evolution of Marvel Superheroes

Question Type : MCQ

Question ID : 6306801139510

Option 1 ID : 6306804478083

Option 2 ID : 6306804478082

Option 3 ID : 6306804478081

Option 4 ID : 6306804478080

Status : Answered

Chosen Option : 2

Section : General Knowledge2

Q.1 फेब्रुवारी 2024 मध्ये, संरक्षण मंत्री राजनाथ सिंह यांच्या उपस्थितीत _____ नावाचे भारतीय नौदलाने त्यांचे सर्वात मोठे सर्वेक्षण जहाज कार्यान्वित केले.

- Ans 1. INS केसरी
 2. INS किरपाण
 3. INS संध्याक
 4. INS बियास

Question Type : MCQ

Question ID : 6306801140194

Option 1 ID : 6306804480810

Option 2 ID : 6306804480808

Option 3 ID : 6306804480809

Option 4 ID : 6306804480811

Status : Answered

Chosen Option : 2

Q.2 टाटा अॅडव्हान्स्ड सिस्टम्स लिमिटेडने (TASL) सशस्त्र दलाच्या वापरासाठी देशातील पहिला गुप्तचर उपग्रह तयार केला आहे, जो 7 एप्रिल 2024 रोजी _____ रॉकेटवर प्रक्षेपित करण्यात आला होता.

- Ans 1. चांद्रयान
 2. स्पेस X
 3. गगनयान
 4. ऑर्बिट XT

Question Type : MCQ
 Question ID : 6306801140157
 Option 1 ID : 6306804480662
 Option 2 ID : 6306804480661
 Option 3 ID : 6306804480660
 Option 4 ID : 6306804480663
 Status : Answered
 Chosen Option : 4

Q.3 वर्ष 2023 मध्ये, शाश्वत विकास ध्येये (SDG) निर्देशांकात भारताने मिळवलेले गुण _____% आहे.

- Ans 1. 62.96
 2. 63.45
 3. 62.98
 4. 63.09

Question Type : MCQ
 Question ID : 6306801140086
 Option 1 ID : 6306804480379
 Option 2 ID : 6306804480376
 Option 3 ID : 6306804480378
 Option 4 ID : 6306804480377
 Status : Answered
 Chosen Option : 4

Q.4 खालीलपैकी कोणत्या अधिनियमानुसार, खाजगी परिचर्या गृह (nursing homes), ज्यात प्रसूति गृह इत्यादींचा समावेश आहे, त्यांची नोंदणी करणे आवश्यक आहे?

- Ans 1. मुंबई परिचर्या गृह नोंदणी अधिनियम, 1949
 2. मुंबई महानगरपालिका अधिनियम, 1950
 3. भारतीय वैद्यकीय परिषद अधिनियम, 1960
 4. राष्ट्रीय आरोग्य सेवा अधिनियम, 1959

Question Type : MCQ
 Question ID : 6306801139790
 Option 1 ID : 6306804479189
 Option 2 ID : 6306804479188
 Option 3 ID : 6306804479191
 Option 4 ID : 6306804479190
 Status : Answered
 Chosen Option : 4

Q.5 फेब्रुवारी 2024 मधील सरकारी अधिसूचनेनुसार _____ मधील गुप्तेश्वर शिव मंदिराशेजारी असलेले प्राचीन गुप्तेश्वर जंगलास, राज्यातील चौथे जैवविविधता-वारसा स्थळ (BHS) म्हणून घोषित करण्यात आले आहे.

- Ans
- 1. तेलंगणा
 - 2. ओडिशा
 - 3. मध्य प्रदेश
 - 4. कर्नाटक

Question Type : MCQ
 Question ID : 6306801140187
 Option 1 ID : 6306804480782
 Option 2 ID : 6306804480783
 Option 3 ID : 6306804480781
 Option 4 ID : 6306804480780
 Status : Answered
 Chosen Option : 2

Q.6 गारगाई, पिंजाळ आणि दमण गंगा नदी जोड प्रकल्प येथे जलस्रोत विकसित करून पाणीपुरवठा प्रकल्प पूर्ण केल्यानंतर, मुंबईला पाणीपुरवठा _____ ने वाढेल.

- Ans
- 1. 2900 MLD
 - 2. 3891 MLD
 - 3. 2891 MLD
 - 4. 3000 MLD

Question Type : MCQ
 Question ID : 6306801139859
 Option 1 ID : 6306804479465
 Option 2 ID : 6306804479467
 Option 3 ID : 6306804479466
 Option 4 ID : 6306804479464
 Status : Answered
 Chosen Option : 3

Q.7 संसदेने 'चलचित्र (सुधारणा) विधेयक, 2023' ला _____ रोजी मंजूर केले.

- Ans
- 1. 10 जून 2023
 - 2. 12 जानेवारी 2023
 - 3. 3 मार्च 2023
 - 4. 31 जुलै 2023

Question Type : MCQ
 Question ID : 6306801140259
 Option 1 ID : 6306804481070
 Option 2 ID : 6306804481068
 Option 3 ID : 6306804481069
 Option 4 ID : 6306804481071
 Status : Answered
 Chosen Option : 3

Q.1 दिलेल्या मालिकामध्ये किती चिन्हे आहेत, ज्यांच्या लगेच अगोदर एक सम संख्या आणि लगेच नंतर एक विषम संख्या येते? (डावीकडून उजवीकडे मोजणे)

(डावी) 7 8 % 9 4 5 = + 8 6 5 6 % 3 @ 6 * 7 6 + 7 5 4 (उजवी)

- Ans
- 1. 2
 - 2. 3
 - 3. 4
 - 4. 5

Question Type : MCQ
 Question ID : 6306801143352
 Option 1 ID : 6306804493621
 Option 2 ID : 6306804493620
 Option 3 ID : 6306804493622
 Option 4 ID : 6306804493623
 Status : Answered
 Chosen Option : 3

Q.2 दिलेल्या मांडणीमध्ये असे किती स्वर आहेत, ज्यांच्या लगेचच आधी तसेच नंतर एक स्वर आहे?

V T E A O W U I O J N B H I U E V B G T R Y

- Ans
- 1. 2
 - 2. 3
 - 3. 5
 - 4. 4

Question Type : MCQ
 Question ID : 6306801143226
 Option 1 ID : 6306804493116
 Option 2 ID : 6306804493118
 Option 3 ID : 6306804493119
 Option 4 ID : 6306804493117
 Status : Answered
 Chosen Option : 2

Q.3 दिलेल्या मालिकेत प्रश्नचिन्हाच्या (?) जागी खालीलपैकी कोणती संख्या येईल?

22, 34, 56, 90, 146, ?

- Ans
- 1. 228
 - 2. 236
 - 3. 240
 - 4. 244

Question Type : MCQ
 Question ID : 6306801143442
 Option 1 ID : 6306804493983
 Option 2 ID : 6306804493980
 Option 3 ID : 6306804493981
 Option 4 ID : 6306804493982
 Status : Answered
 Chosen Option : 2

Q.4 दिलेल्या मालिकेत प्रश्नचिन्हाच्या (?) जागी खालीलपैकी कोणती संख्या येईल?

7.8, 11.1, 14.4, 17.7, ?

- Ans 1. 19
 2. 21
 3. 22
 4. 23

Question Type : MCQ

Question ID : 6306801143241

Option 1 ID : 6306804493178

Option 2 ID : 6306804493179

Option 3 ID : 6306804493177

Option 4 ID : 6306804493176

Status : Answered

Chosen Option : 2

Q.5 S, T, W, X, Y आणि Z हे सहा मित्र एका गोलाकार टेबलाभोवती केंद्राकडे तोंड करून बसलेले आहेत. W हा T च्या डावीकडे तिसऱ्या स्थानावर बसला आहे. W हा Z च्या लगतच शेजारी बसला आहे. S हा T च्या उजवीकडे दुसऱ्या स्थानावर बसला आहे. Y हा Z च्या लगतच शेजारी बसलेला नाही. तर W आणि Y यांच्यामध्ये कोण बसले असेल?

- Ans 1. W
 2. S
 3. X
 4. T

Question Type : MCQ

Question ID : 6306801143296

Option 1 ID : 6306804493396

Option 2 ID : 6306804493397

Option 3 ID : 6306804493399

Option 4 ID : 6306804493398

Status : Answered

Chosen Option : 2

Q.6 काही खोके एकावर एक असे रचून ठेवले आहेत. एक ठराविक खोका वरून मोजल्यावर 42व्या क्रमांकावर आणि तळापासून 73व्या क्रमांकावर ठेवलेला आढळतो. तर ठेवलेल्या खोक्यांची एकूण संख्या शोधा.

- Ans 1. 120
 2. 110
 3. 116
 4. 114

Question Type : MCQ

Question ID : 6306801143048

Option 1 ID : 6306804492406

Option 2 ID : 6306804492407

Option 3 ID : 6306804492404

Option 4 ID : 6306804492405

Status : Answered

Chosen Option : 4

Section : Marathi language & Grammar3

Q.1 हरिहार गुरुनाथ सलगरकर _____ या टोपण नावाने प्रसिद्ध आहेत.

- Ans
- 1. भालाकार
 - 2. फडकरी
 - 3. कुंजविहारी
 - 4. सुधांशु

Question Type : MCQ

Question ID : 6306801138686

Option 1 ID : 6306804474912

Option 2 ID : 6306804474913

Option 3 ID : 6306804474914

Option 4 ID : 6306804474915

Status : Answered

Chosen Option : 3

Q.2 खालील वाक्यचाराचा योग्य अर्थ ओळखा.

काळजात क्रंदन होणे

- Ans
- 1. दुःख होणे
 - 2. आनंद होणे
 - 3. भयभीत होणे
 - 4. आशावादी होणे

Question Type : MCQ

Question ID : 6306801138526

Option 1 ID : 6306804474298

Option 2 ID : 6306804474297

Option 3 ID : 6306804474296

Option 4 ID : 6306804474299

Status : Answered

Chosen Option : 1

Q.3 खालील सामासिक शब्दाचा विग्रह करा.

पान सुपारी

- Ans
- 1. पान, सुपारी अथवा
 - 2. पान आणि सुपारी
 - 3. पान सुपारी वगैरे
 - 4. पान व सुपारी

Question Type : MCQ

Question ID : 6306801138416

Option 1 ID : 6306804473874

Option 2 ID : 6306804473873

Option 3 ID : 6306804473875

Option 4 ID : 6306804473872

Status : Answered

Chosen Option : 1

Q.4 पुढीलपैकी 'जिरायती' या शब्दाचा विरुद्धार्थी शब्द कोणता आहे?

- Ans
- 1. कूटनीती
 - 2. बागायती
 - 3. गोपनीय
 - 4. कलागती

Question Type : MCQ

Question ID : 6306801138861

Option 1 ID : 6306804475585

Option 2 ID : 6306804475586

Option 3 ID : 6306804475584

Option 4 ID : 6306804475587

Status : Answered

Chosen Option : 2

Q.5 'वेणीफणी' हा समास ओळखा.

- Ans
- 1. समाहार द्वंद्व
 - 2. इतरेतर द्वंद्व
 - 3. द्विगू
 - 4. वैकल्पिक द्वंद्व

Question Type : MCQ

Question ID : 6306801138753

Option 1 ID : 6306804475171

Option 2 ID : 6306804475170

Option 3 ID : 6306804475168

Option 4 ID : 6306804475169

Status : Answered

Chosen Option : 4

Q.6 योग्य समूहदर्शक शब्द निवडा.

ज्याप्रमाणे, गाईगुरांचे : खिल्लार त्याप्रमाणे, मडक्यांची : _____

- Ans
- 1. चळत
 - 2. थप्पी
 - 3. रास
 - 4. उतरंड

Question Type : MCQ

Question ID : 6306801138662

Option 1 ID : 6306804474821

Option 2 ID : 6306804474820

Option 3 ID : 6306804474822

Option 4 ID : 6306804474823

Status : Answered

Chosen Option : 4

Q.1 Identify the segment that contains a grammatical error. If there is no error, select 'No error'.

Every day, beside Sunday, / Bisnu walked five miles to school; / and in the evening, he walked home again.

- Ans
- 1. No error
 - 2. Bisnu walked five miles to school;
 - 3. Every day, beside Sunday,
 - 4. and in the evening, he walked home again.

Question Type : MCQ
Question ID : 6306801139106
Option 1 ID : 6306804476531
Option 2 ID : 6306804476529
Option 3 ID : 6306804476528
Option 4 ID : 6306804476530
Status : Answered
Chosen Option : 2

Q.2 Choose the correctly spelt word:

- Ans
- 1. Bureocracy
 - 2. Burocracy
 - 3. Bureaucrazy
 - 4. Bureaucracy

Question Type : MCQ
Question ID : 6306801139396
Option 1 ID : 6306804477646
Option 2 ID : 6306804477647
Option 3 ID : 6306804477645
Option 4 ID : 6306804477644
Status : Answered
Chosen Option : 4

Q.3 Based on the situation given below, identify the most suitable idiom from the options given below to replace the situation.

Lisa faced unexpected challenges when she lost her job, but little did she know that this unfortunate event led her to discover a new career opportunity that turned out to be exceptionally beneficial.

- Ans
- 1. A Blessing In Disguise.
 - 2. All Bark And No Bite.
 - 3. A Taste Of Your Own Medicine.
 - 4. A Toss-Up.

Question Type : MCQ
Question ID : 6306801139399
Option 1 ID : 6306804477657
Option 2 ID : 6306804477658
Option 3 ID : 6306804477656
Option 4 ID : 6306804477659
Status : Answered
Chosen Option : 1

Q.4 Identify the sentence with a superlative adjective error:

- Ans
- 1. The cake was the most delicious dessert at the party.
 - 2. It was the funniest movie I've ever seen.
 - 3. She is the most smarter student in the class.
 - 4. This is the tallest building in the city.

Question Type : MCQ

Question ID : 6306801139548

Option 1 ID : 6306804478231

Option 2 ID : 6306804478230

Option 3 ID : 6306804478229

Option 4 ID : 6306804478228

Status : Answered

Chosen Option : 3

Q.5 Based on the situation given below, identify the most suitable idiom from the options given below to replace the situation.

Sarah invested all her savings in a risky venture, and unfortunately, she lost everything. Now she is wary of investments altogether

- Ans
- 1. A cracked bell can never sound well.
 - 2. A danger foreseen is half avoided.
 - 3. A clean fast is better than a dirty breakfast.
 - 4. A burnt child dreads the fire.

Question Type : MCQ

Question ID : 6306801139478

Option 1 ID : 6306804477963

Option 2 ID : 6306804477960

Option 3 ID : 6306804477962

Option 4 ID : 6306804477961

Status : Answered

Chosen Option : 3

Q.6 The protagonist displayed immense fortitude in the face of adversity.

Question: What does "fortitude" mean in this sentence?

- Ans
- 1. Fear
 - 2. Courage
 - 3. Weakness
 - 4. Confusion

Question Type : MCQ

Question ID : 6306801139508

Option 1 ID : 6306804478076

Option 2 ID : 6306804478077

Option 3 ID : 6306804478078

Option 4 ID : 6306804478079

Status : Answered

Chosen Option : 1

Q.7 Fill in the blank with the most appropriate option.

The only _____ heard was the munching of the cucumber and the coconut.

- Ans
- 1. ring
 - 2. blare
 - 3. bark
 - 4. sound

Question Type : MCQ
Question ID : 6306801139155
Option 1 ID : 6306804476716
Option 2 ID : 6306804476719
Option 3 ID : 6306804476717
Option 4 ID : 6306804476718
Status : Answered
Chosen Option : 1

Section : General knowledge3

Q.1 देवनार इम्पिंग ग्राऊंडमधून दररोज गोळा होणाऱ्या सरासरी घनकचऱ्यामध्ये _____ मेट्रिक टन भंगाराचा समावेश होतो.

- Ans
- 1. 1200-1500
 - 2. 150-180
 - 3. 750-800
 - 4. 6300-6500

Question Type : MCQ
Question ID : 6306801139762
Option 1 ID : 6306804479076
Option 2 ID : 6306804479079
Option 3 ID : 6306804479078
Option 4 ID : 6306804479077
Status : Answered
Chosen Option : 2

Q.2 30 ऑगस्ट 2023 रोजी, सामाजिक न्याय आणि सक्षमीकरण मंत्रालय आणि राष्ट्रीय सफाई कर्मचारी वित्त आणि विकास महामंडळ (NSKFDC) यांनी _____ यांच्या सामाजिक-आर्थिक परिस्थिती सुधारण्यासाठी एक सामंजस्य करार (MoU) वर स्वाक्षरी केली. येथे खालीलपैकी कोणता पर्याय योग्य आहे?

- A. सफाई कर्मचारी
B. मॅन्युअल स्कॅव्हेजर्स
C. कचरा वेचक आणि त्यांचे अवलंबित.

- Ans 1. केवळ B आणि C
 2. केवळ A आणि C
 3. केवळ A आणि B
 4. A,B,C

Question Type : MCQ

Question ID : 6306801140257

Option 1 ID : 6306804481061

Option 2 ID : 6306804481062

Option 3 ID : 6306804481060

Option 4 ID : 6306804481063

Status : Answered

Chosen Option : 4

Q.3 वर्ष 2023 मध्ये प्रकाशित झालेल्या, राष्ट्रीय गुन्हे नोंदणी विभागाच्या (NCRB) वार्षिक अहवालानुसार, खालीलपैकी कोणत्या राज्यात महिलांवरील गुन्हांच्या खटल्यांची सर्वाधिक संख्या नोंदवली गेली आहे?

- Ans 1. बिहार
 2. उत्तर प्रदेश
 3. महाराष्ट्र
 4. हरियाणा

Question Type : MCQ

Question ID : 6306801140093

Option 1 ID : 6306804480405

Option 2 ID : 6306804480404

Option 3 ID : 6306804480407

Option 4 ID : 6306804480406

Status : Answered

Chosen Option : 3

Q.4 मे 2023 मध्ये, _____ यांनी राष्ट्रीय राजधानीतील नागरी सेवांचे नियंत्रण दिल्ली सरकारकडे सोपवले.

- Ans 1. राष्ट्रपती
 2. सर्वोच्च न्यायालय
 3. पंतप्रधान
 4. लेफ्टनंट गव्हर्नर

Question Type : MCQ

Question ID : 6306801140200

Option 1 ID : 6306804480832

Option 2 ID : 6306804480833

Option 3 ID : 6306804480834

Option 4 ID : 6306804480835

Status : Answered

Chosen Option : 1

Q.5 टाटा अॅडव्हॉन्स सिस्टम लिमिटेड (TASL), या भारतातील स्थानिक खाजगी कंपनीने फेब्रुवारी 2024 मध्ये सशस्त्र दलांच्या वापरासाठी देशातील पहिला _____ उपग्रह तयार केला आहे.

- Ans**
- 1. डेटा
 - 2. मीडिया
 - 3. जीपीएस (GPS)
 - 4. गुप्तहेर

Question Type : **MCQ**
 Question ID : **6306801140239**
 Option 1 ID : **6306804480991**
 Option 2 ID : **6306804480989**
 Option 3 ID : **6306804480990**
 Option 4 ID : **6306804480988**
 Status : **Answered**
 Chosen Option : **4**

Q.6 रोगपरिस्थितिविज्ञान कक्षाची प्राथमिक भूमिका काय आहे?

- Ans**
- 1. आरोग्य जनजागृती कार्यक्रम राबविणे
 - 2. वैद्यकीय कर्मचारी प्रशिक्षण देखरेख करण्यासाठी
 - 3. संसर्गजन्य रोगांची माहिती गोळा करणे, संकलित करणे आणि त्याचे विश्लेषण करणे; संसर्गजन्य रोगांच्या प्रवृत्तीचे निरीक्षण करणे आणि या रोगांना प्रतिबंध आणि नियंत्रणासाठी मार्गदर्शक तत्त्वे प्रदान करणे
 - 4. रुग्णालयाच्या रसद व्यवस्थापन करण्यासाठी

Question Type : **MCQ**
 Question ID : **6306801139811**
 Option 1 ID : **6306804479273**
 Option 2 ID : **6306804479275**
 Option 3 ID : **6306804479272**
 Option 4 ID : **6306804479274**
 Status : **Answered**
 Chosen Option : **3**

Q.1 दोन विधाने दिली आहेत, त्यानंतर I व II क्रमांक असणारे दोन निष्कर्ष दिलेले आहेत. दिलेली विधाने सामान्यपणे ज्ञात असणाऱ्या तथ्यांपेक्षा भिन्न असली तरीही सत्य आहेत असे मानून, कोणता/ते निष्कर्ष दिलेल्या विधानांशी तर्कसंगत आहे/ते ठरवा.

विधान I: काही ट्रेन जहाजे आहेत.

विधान II: काही जहाजे गाड्या आहेत.

निष्कर्ष I: काही ट्रेन गाड्या आहेत.

निष्कर्ष II: काही जहाजे गाड्या नाहीत.

- Ans
- 1. I आणि II हे दोन्ही निष्कर्ष तर्कसंगत आहेत
 - 2. केवळ निष्कर्ष I तर्कसंगत आहे
 - 3. I किंवा II पैकी एकही निष्कर्ष तर्कसंगत नाही.
 - 4. केवळ निष्कर्ष II तर्कसंगत आहे

Question Type : MCQ

Question ID : 6306801143531

Option 1 ID : 6306804494338

Option 2 ID : 6306804494336

Option 3 ID : 6306804494339

Option 4 ID : 6306804494337

Status : Answered

Chosen Option : 4

Q.2 विद्यार्थ्यांच्या एका ओळीत, अनिल डावीकडून 10वा आहे, तर साहिल उजवीकडून 15वा आहे. दोघांनीही आपापल्या स्थानांची अशी अदलाबदल केली, जेणेकरून अनिल हा डावीकडून 22वा झाला. तर वर्गातील एकूण विद्यार्थी संख्या किती असेल?

- Ans
- 1. 40
 - 2. 36
 - 3. 42
 - 4. 34

Question Type : MCQ

Question ID : 6306801143074

Option 1 ID : 6306804492510

Option 2 ID : 6306804492508

Option 3 ID : 6306804492511

Option 4 ID : 6306804492509

Status : Answered

Chosen Option : 2

Q.3 D, G, O, S आणि W हे पाच सहकारी एका ओळीत उत्तरेकडे तोंड करून बसले आहेत. G हा D च्या डावीकडे दुसऱ्या स्थानावर बसला आहे, जो O च्या डावीकडे दुसरा बसला आहे. W हा G च्या लगतच शेजारी बसलेला आहे. तर ओळीच्या सर्वात डावीकडच्या टोकाला कोण बसले आहे?

- Ans
- 1. S
 - 2. W
 - 3. O
 - 4. G

Question Type : MCQ
 Question ID : 6306801143072
 Option 1 ID : 6306804492501
 Option 2 ID : 6306804492500
 Option 3 ID : 6306804492502
 Option 4 ID : 6306804492503
 Status : Answered
 Chosen Option : 3

Q.4 एका विशिष्ट सांकेतिक भाषेत, जर TIGER ला TJGFR असे संकेतबद्ध केले असेल, CAMEL ला CBMFL असे संकेतबद्ध केले असेल, तर DONKEY ला कसे संकेतबद्ध केले जाईल?

- Ans
- 1. DQNKFY
 - 2. DPNLFY
 - 3. DPMKFY
 - 4. DPNKFY

Question Type : MCQ
 Question ID : 6306801143108
 Option 1 ID : 6306804492645
 Option 2 ID : 6306804492646
 Option 3 ID : 6306804492644
 Option 4 ID : 6306804492647
 Status : Answered
 Chosen Option : 4

Q.5 'P - Q' म्हणजे 'P ही Q ची आई आहे'
 'P + Q' म्हणजे 'P हे Q चे वडील आहेत'
 'P ÷ Q' म्हणजे 'P हे Q चे पती आहेत'
 'P × Q' म्हणजे 'P ही Q ची मुलगी आहे'
 तर 'U ÷ X - W + V' या समीकरणात U चे V शी काय नाते असेल?

- Ans
- 1. वडील
 - 2. पतीचे वडील
 - 3. वडीलांचे वडील
 - 4. वडिलांचा भाऊ

Question Type : MCQ
 Question ID : 6306801143560
 Option 1 ID : 6306804494452
 Option 2 ID : 6306804494453
 Option 3 ID : 6306804494454
 Option 4 ID : 6306804494455
 Status : Answered
 Chosen Option : 3

Q.6 ज्याप्रकारे दुसरा अक्षरगट पहिल्या अक्षर गटाशी संबंधित आहे, त्याचप्रकारे तिसऱ्या अक्षर गटाशी संबंधित असलेला पर्याय निवडा.

EKY : AGU :: VBG : ?

- Ans
- 1. RYC
 - 2. RXD
 - 3. RXC
 - 4. SXC

Question Type : MCQ
 Question ID : 6306801143387
 Option 1 ID : 6306804493762
 Option 2 ID : 6306804493763
 Option 3 ID : 6306804493760
 Option 4 ID : 6306804493761
 Status : Answered
 Chosen Option : 3

Section : Marathi language & Grammar4

Q.1 'डॉक्टर रोग्याला तपासतात.' या विधानातील अप्रत्यक्ष कर्म ओळखा.

- Ans
- 1. तपासतात
 - 2. डॉक्टर
 - 3. डॉक्टर रोग्याला
 - 4. रोग्याला

Question Type : MCQ
 Question ID : 6306801138633
 Option 1 ID : 6306804474708
 Option 2 ID : 6306804474711
 Option 3 ID : 6306804474709
 Option 4 ID : 6306804474710
 Status : Answered
 Chosen Option : 4

Q.2 दिनकर गंगाधर केळकर हे कोणत्या टोपण नावाने साहित्य लिखाण करीत होते?

- Ans
- 1. ग्रेस
 - 2. बालकवी
 - 3. अज्ञातवासी
 - 4. गिरीश

Question Type : MCQ
 Question ID : 6306801138505
 Option 1 ID : 6306804474218
 Option 2 ID : 6306804474216
 Option 3 ID : 6306804474217
 Option 4 ID : 6306804474219
 Status : Answered
 Chosen Option : 3

Q.3 अक्षरशत्रू या अलंकारिक शब्दाचा अर्थ काय?

- Ans 1. अक्षरओळख नसणारा
 2. वाईट अक्षर असलेला
 3. अक्षरे वाचणारा
 4. सुशिक्षित

Question Type : MCQ

Question ID : 6306801138940

Option 1 ID : 6306804475889

Option 2 ID : 6306804475891

Option 3 ID : 6306804475888

Option 4 ID : 6306804475890

Status : Answered

Chosen Option : 1

Q.4 प्रमाणलेखनानुसार अचूक शब्द शोधा.

- Ans 1. अभ्युदय
 2. अभ्युदय
 3. आभ्युदय
 4. अभुदय

Question Type : MCQ

Question ID : 6306801138759

Option 1 ID : 6306804475195

Option 2 ID : 6306804475193

Option 3 ID : 6306804475192

Option 4 ID : 6306804475194

Status : Answered

Chosen Option : 1

Q.5 'एखाद्याला पेचात अडकवल्याशिवाय तो आपले काम करून देणार नाही किंवा आपले म्हणणे कबूल करणार नाही.' या विधानाला लागू होणारी अचूक म्हण ओळखा.

- Ans 1. नाक दाबले म्हणजे तोंड उघडते
 2. नखाने काम होत नाही तेथे कुन्हाड
 3. नाकाने कांदे किंवा वांगे सोलणे
 4. नाचता येईना अंगण वाकडे

Question Type : MCQ

Question ID : 6306801138631

Option 1 ID : 6306804474700

Option 2 ID : 6306804474702

Option 3 ID : 6306804474703

Option 4 ID : 6306804474701

Status : Answered

Chosen Option : 1

Q.6 समूहदर्शक शब्दांच्या जोड्या लावा

1. पुस्तकांचा	अ. कळप
2. फळांचा	ब. जुडगा
3. किल्ल्यांचा	क. ढीग
4. गुरांचा	ड. गठ्ठा

- Ans
- 1. 1-अ, 2-क, 3-ब, 4-ड
 - 2. 1-अ, 2-ड, 3-ब, 4-क
 - 3. 1-ड, 2-क, 3-अ, 4-ब
 - 4. 1-ड, 2-क, 3-ब, 4-अ

Question Type : MCQ
 Question ID : 6306801138299
 Option 1 ID : 6306804473427
 Option 2 ID : 6306804473425
 Option 3 ID : 6306804473424
 Option 4 ID : 6306804473426
 Status : Answered
 Chosen Option : 4

Q.7 खालील वाक्यातील उद्देश्य ओळखा.

सूर्याच्या प्रकाशात पिके शोभून दिसतात

- Ans
- 1. शोभून
 - 2. पिके
 - 3. सूर्याच्या
 - 4. प्रकाशात

Question Type : MCQ
 Question ID : 6306801138372
 Option 1 ID : 6306804473706
 Option 2 ID : 6306804473707
 Option 3 ID : 6306804473704
 Option 4 ID : 6306804473705
 Status : Answered
 Chosen Option : 2

Q.1 Select the word from the options which is exactly opposite in meaning to the word in brackets given in the sentence below.

Various motives (impel) the living to treat with respect the body from which life has departed.

- Ans
- 1. retrieve
 - 2. actuate
 - 3. boost
 - 4. hinder

Question Type : MCQ

Question ID : 6306801139115

Option 1 ID : 6306804476564

Option 2 ID : 6306804476567

Option 3 ID : 6306804476565

Option 4 ID : 6306804476566

Status : Answered

Chosen Option : 1

Q.2 Select the word from the options which is exactly opposite in meaning to the bracketed word given in the sentence below.

It was once thought the solar system was probably a (barren) wasteland apart from Earth.

- Ans
- 1. fallow
 - 2. productive
 - 3. sterile
 - 4. parched

Question Type : MCQ

Question ID : 6306801138986

Option 1 ID : 6306804476069

Option 2 ID : 6306804476070

Option 3 ID : 6306804476068

Option 4 ID : 6306804476071

Status : Answered

Chosen Option : 3

Q.3 Rearrange the following sentences to form a coherent paragraph and choose the correct sequence from the options given below:

- A. The conservation of biodiversity is a critical global concern that requires concerted efforts from individuals, communities, and governments.
- B. Additionally, habitat preservation and restoration projects are essential to provide safe spaces for diverse species to thrive.
- C. Implementing effective policies and regulations to curb activities that contribute to biodiversity loss is imperative for long-term sustainability.
- D. Furthermore, public awareness and education play a vital role in garnering support for conservation initiatives and fostering a sense of responsibility toward the environment.

Ans 1. ACBD

2. CDAB

3. BDAC

4. DCAB

Question Type : MCQ

Question ID : 6306801139239

Option 1 ID : 6306804477040

Option 2 ID : 6306804477043

Option 3 ID : 6306804477042

Option 4 ID : 6306804477041

Status : Answered

Chosen Option : 1

Q.4 Select the most appropriate synonym for "adversaries"

Ans 1. Diplomatic

2. Foes

3. Gigantic

4. Rider

Question Type : MCQ

Question ID : 6306801139611

Option 1 ID : 6306804478472

Option 2 ID : 6306804478474

Option 3 ID : 6306804478473

Option 4 ID : 6306804478475

Status : Answered

Chosen Option : 2

Q.5 The fragments of a sentence given below are all part of a paragraph but do not necessarily fall in the order that they are in. The first and the last fragments are given. Choose the option that arranges these fragments to form a meaningful paragraph.

Chenardhwaj, the governor of Kashmir, wanted to broadcast to the entire world that the

A. Meluhan capital Devagiri, the abode of the gods. The orders were crystal clear. The news of

B. Karachapa or Lothal. His Srinagar! But the bird courier had arrived almost immediately from the

C. the arrival of the Neelkanth had to be kept secret until the emperor himself had seen Shiva.

D. Neelkanth had appeared in his capital city. Not in the other frontier towns like Takshashila,

Chenardhwaj was ordered to send Shiva along with an escort to Devagiri.

Ans 1. DBAC

2. CABD

3. ACDB

4. BCDA

Question Type : MCQ

Question ID : 6306801139135

Option 1 ID : 6306804476642

Option 2 ID : 6306804476643

Option 3 ID : 6306804476641

Option 4 ID : 6306804476640

Status : Answered

Chosen Option : 3

Q.6 Choose the idiom that accurately represents the situation described. Situation:

Despite the unexpected challenges, the manager remained calm and continued to guide the team through the project, demonstrating effective leadership.

Ans 1. Hit the nail on the head

2. Keep one's eyes peeled

3. Weather the storm

4. Hold one's horses

Question Type : MCQ

Question ID : 6306801139268

Option 1 ID : 6306804477154

Option 2 ID : 6306804477153

Option 3 ID : 6306804477155

Option 4 ID : 6306804477152

Status : Answered

Chosen Option : 1

Q.1 प्रधान मंत्री सामाजिक उत्थान आणि रोजगार आधारीत जनकल्याण' (PM-SURAJ) 13 मार्च 2024 रोजी वंचित समुदायातील _____ क्रेडिट सहाय्य देतील.

- Ans
- 1. 2 लाख उद्योजकांना
 - 2. 50 हजार उद्योजकांना
 - 3. 1 लाख उद्योजकांना
 - 4. 5 लाख उद्योजकांना

Question Type : MCQ

Question ID : 6306801139994

Option 1 ID : 6306804480010

Option 2 ID : 6306804480008

Option 3 ID : 6306804480009

Option 4 ID : 6306804480011

Status : Answered

Chosen Option : 1

Q.2 खेलो इंडिया हिवाळी क्रीडा स्पर्धा 2024 चे आयोजन कोणी केले?

- Ans
- 1. जम्मू आणि काश्मीर
 - 2. हिमाचल प्रदेश
 - 3. लडाख
 - 4. उत्तराखंड

Question Type : MCQ

Question ID : 6306801140105

Option 1 ID : 6306804480453

Option 2 ID : 6306804480454

Option 3 ID : 6306804480452

Option 4 ID : 6306804480455

Status : Answered

Chosen Option : 1

Q.3 आर्थिक वर्ष 2022-23 मध्ये, राष्ट्रीय अल्पसंख्याक विकास आणि वित्त महामंडळ (NMDFC) यांनी _____ चे आतापर्यंतचे सर्वाधिक कर्ज वितरित केले आहे.

- Ans
- 1. रु. 724.2 कोटी
 - 2. रु. 685.48 कोटी
 - 3. रु. 926.46 कोटी
 - 4. रु. 881.7 कोटी

Question Type : MCQ

Question ID : 6306801139893

Option 1 ID : 6306804479605

Option 2 ID : 6306804479604

Option 3 ID : 6306804479607

Option 4 ID : 6306804479606

Status : Answered

Chosen Option : 1

Q.4 वर्ष 2022-23 पर्यंतच्या माहितीनुसार, मुंबई शहर आणि पश्चिम आणि पूर्व विभागांसह एकूण महापालिका दवाखान्यांची संख्या किती आहे?

- Ans
- 1. 74
 - 2. 51
 - 3. 65
 - 4. 190

Question Type : MCQ

Question ID : 6306801139711

Option 1 ID : 6306804478872

Option 2 ID : 6306804478874

Option 3 ID : 6306804478873

Option 4 ID : 6306804478875

Status : Answered

Chosen Option : 3

Q.5 एखादी व्यक्ती नामनिर्देशित नसलेल्या भागात प्राणी/पक्ष्यांना खायला घालताना आढळल्यास, उप-कायद्याच्या उल्लंघनासाठी दंडाची किती रक्कम लागू होते?

- Ans
- 1. ₹1,000
 - 2. ₹500
 - 3. ₹200
 - 4. ₹100

Question Type : MCQ

Question ID : 6306801139694

Option 1 ID : 6306804478806

Option 2 ID : 6306804478807

Option 3 ID : 6306804478805

Option 4 ID : 6306804478804

Status : Answered

Chosen Option : 2

Q.6 ऑक्टोबर 2023 मध्ये, खालीलपैकी कोणी आशियाई क्रीडा स्पर्धेत, भारतासाठी बॅडमिंटनमध्ये पहिले सुवर्ण जिंकले?

- Ans
- 1. ध्रुव कपिला आणि एम. आर. अर्जुन
 - 2. सनावे थॉमस आणि अरुण विष्णू
 - 3. चिराग शेटी आणि सात्विकसाईराज रंकीरेड्डी
 - 4. प्रणव जेरी चोप्रा आणि सिक्की रेड्डी

Question Type : MCQ

Question ID : 6306801139986

Option 1 ID : 6306804479978

Option 2 ID : 6306804479977

Option 3 ID : 6306804479976

Option 4 ID : 6306804479979

Status : Answered

Chosen Option : 3

Q.1 चार शब्द दिले आहेत, ज्यापैकी तीन एका विशिष्ट तऱ्हेने समान आहेत आणि एक वेगळा आहे. गटात न बसणारा शब्द निवडा.

- Ans 1. भारत
 2. मोनॅको
 3. जपान
 4. भूतान

Question Type : MCQ
 Question ID : 6306801143339
 Option 1 ID : 6306804493568
 Option 2 ID : 6306804493571
 Option 3 ID : 6306804493569
 Option 4 ID : 6306804493570
 Status : Answered
 Chosen Option : 2

Q.2 चार अक्षर गटांच्या जोड्या दिल्या आहेत, ज्यापैकी तीन एका विशिष्ट तऱ्हेने समान आहेत आणि एक वेगळी आहे. गटात न बसणारी अक्षर गटाची जोडी निवडा.

- Ans 1. BC : CB
 2. CF: ED
 3. MP: ON
 4. HJ: JH

Question Type : MCQ
 Question ID : 6306801143540
 Option 1 ID : 6306804494375
 Option 2 ID : 6306804494372
 Option 3 ID : 6306804494373
 Option 4 ID : 6306804494374
 Status : Answered
 Chosen Option : 4

Q.3 ज्याप्रकारे दुसरा शब्द पहिल्या शब्दाशी संबंधित आहे, त्याचप्रकारे तिसऱ्या शब्दाशी संबंधित पर्याय निवडा.

बदक : तलाव :: माकड : ?

- Ans 1. नदी
 2. महासागर
 3. पर्वत
 4. झाड

Question Type : MCQ
 Question ID : 6306801143086
 Option 1 ID : 6306804492558
 Option 2 ID : 6306804492559
 Option 3 ID : 6306804492556
 Option 4 ID : 6306804492557
 Status : Answered
 Chosen Option : 4

Test

Prime

By Adda247

Previous Year Papers PDF

PRACTICE MORE, SCORE HIGHER!



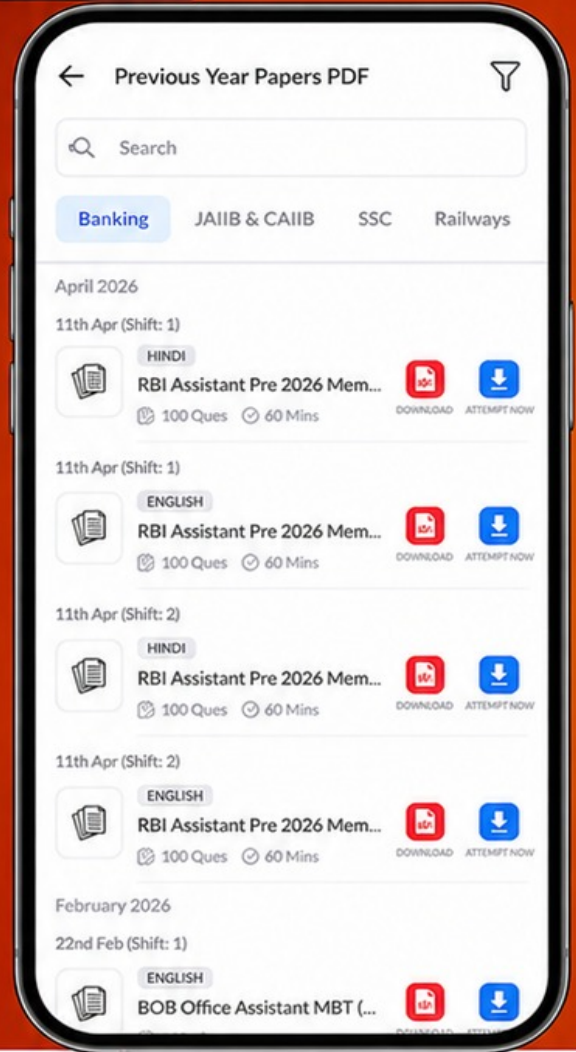
Free 25,000+ PDF's

High-Quality | Exam-Wise | Updated Regularly

ATTEMPT AS MOCK



Turn PDFs into real exam experience.
Analyze. Improve. Succeed.



Topic-wise & Exam-wise PDFs



Download & Study Offline



Attempt as Mock & Track Score



Smart Analysis & Performance

AVAILABLE IN



Banking



SSC



Railway



Teaching



UGC



Agriculture



Nursing



Bihar



UP



Punjab



WB



Odisha



TN



AP & Telangana



Haryana



DOWNLOAD THE APP



Q.4 दोन विधाने आणि I व II क्रमांक असणारे दोन निष्कर्ष दिलेले आहेत. दिलेली विधाने सामान्यपणे ज्ञात असणाऱ्या तथ्यांपेक्षा भिन्न असली तरीही सत्य आहेत असे मानून, कोणता/ते निष्कर्ष दिलेल्या विधानांशी तर्कसंगत आहे/त हे ठरवा.

विधाने:

- A. सर्व शहरे राज्ये आहेत.
B. काही शहरे राजधान्या आहेत.

निष्कर्ष:

- I. काही राज्ये राजधान्या आहेत.
II. काही राज्ये शहरे नाहीत.

- Ans 1. फक्त निष्कर्ष I तर्कसंगत आहे.
 2. निष्कर्ष I आणि II हे दोन्ही तर्कसंगत आहेत
 3. फक्त निष्कर्ष II तर्कसंगत आहे
 4. निष्कर्ष I किंवा II यांपैकी कोणताही तर्कसंगत नाही

Question Type : MCQ

Question ID : 6306801143305

Option 1 ID : 6306804493432

Option 2 ID : 6306804493434

Option 3 ID : 6306804493433

Option 4 ID : 6306804493435

Status : Answered

Chosen Option : 2

Q.5 एका विशिष्ट सांकेतिक भाषेत, जर STRANGE ला 84 असे संकेतबद्ध केले असेल, MIDDLE ला 47 असे संकेतबद्ध केले असेल, तर FUNNY ला कसे संकेतबद्ध केले जाईल?

- Ans 1. 80
 2. 72
 3. 82
 4. 78

Question Type : MCQ

Question ID : 6306801143257

Option 1 ID : 6306804493243

Option 2 ID : 6306804493241

Option 3 ID : 6306804493242

Option 4 ID : 6306804493240

Status : Answered

Chosen Option : 1

Q.6 चार अक्षर-समूह दिलेले आहेत, त्यापैकी तीन विशिष्ट तऱ्हेने समान आहेत आणि एक वेगळा आहे. गटात न बसणारा अक्षर-समूह निवडा.

Ans 1. GIKM

2. SUWY

3. MOQS

4. PRTU

Question Type : MCQ

Question ID : 6306801143213

Option 1 ID : 6306804493067

Option 2 ID : 6306804493065

Option 3 ID : 6306804493064

Option 4 ID : 6306804493066

Status : Answered

Chosen Option : 4

